

1.北京是一座有着三千多年歷史的古都，以下哪個選項不是北京古代的舊稱？

(C)

A.燕京

B.大都

C.臨安

2.北京市內有全世界現存規模最大的木結構建築群，並且被聯合國教科文組織列為「世界文化遺產」，它是：(A)

A.故宮

B.圓明園

C.頤和園

3.北京故宮博物院成立於哪一年？(C)



A.1949 年

B.1937 年

C.1925 年

4.以下哪位藝術家不在京劇「四大名旦」之列？(C)

A.梅蘭芳

B.程硯秋

C.馬連良

5.在中外享有「萬里長城慕田峪獨秀」之美譽的慕田峪長城位於北京市哪個區？

(B)



- A. 密雲區
- B. 懷柔區
- C. 通州區

6. 位於北京西郊的頤和園是中國園林藝術的代表作，始建於清乾隆十五年（1750年），是中國現存最完整的大型皇家園林之一。它的原名為：(B)



- A. 圓明園
- B. 清漪園
- C. 拙政園

7. 下圖是現藏於中國國家博物館的哪件寶物？(C)



- A. 后母戊鼎
- B. 虢季子白盤
- C. 四羊方尊

8. 下圖是位於北京市東城區雍和宮大街的雍和宮，是北京最大的\_\_\_\_\_寺院。(A)



- A. 藏傳佛教
- B. 回教
- C. 道教

9. 中國科學家在北京周口店遺址發現了哪種中國猿人的遺跡?(C)

- A. 元謀人
- B. 山頂洞人
- C. 北京人

10. 下圖是\_\_\_\_\_，由於其建築外形前衛，被美國《時代》評選為 2007 年世界十大建築奇蹟，並列的有北京當代萬國城和國家體育場。(C)



- A. 中國國際貿易中心
- B. 北京電視中心
- C. 中央電視台總部

11. 天津位於華北平原的海河各支流交匯處，東臨渤海，北依\_\_\_\_\_。(B)

- A. 太行山
- B. 燕山
- C. 泰山

12. 天津市是中國北方最大沿海開放城市，其最鄰近的海域是：(C)

- A. 黃海
- B. 東海
- C. 渤海

13. 「三分河口」是北運河、南運河和\_\_\_\_\_的交匯處。因這裏曾是天津最早的居民點、最早的水旱碼頭、最早的商品集散地，固有「天津搖籃」的美稱。(C)

- A. 津河
- B. 灤河
- C. 海河

14. \_\_\_\_\_是中國發行時間最長的中文報紙之一，1902年創刊於天津法租界。(A)

- A. 《大公報》

B.《申報》

C.《光華日報》

15.為天津賜名的皇帝是：(B)

A.漢武帝劉徹

B.明成祖朱棣

C.宋太宗趙光義

16.被稱為「天津三絕」的三種天津小吃是：(A)

A.狗不理包子、十八街麻花、耳朵眼炸糕

B.狗不理包子、十八街麻花、小寶栗子

C.耳朵眼炸糕、楊村糕幹、茶湯

17.嚴復是中國近代思想家、教育家和翻譯家，是系統地把進化論、自由主義等「西學」引入中國的第一人，以下哪部不是他翻譯的作品：(C)

A.《天演論》

B.《國富論》

C.《救亡決論》

18.下圖為位於天津市和平區的\_\_\_\_\_，末代皇帝溥儀曾攜皇后婉容、淑妃文繡於此居住，是天津租界時期庭院式私人宅邸的典型代表。(C)



A.大悲院

B.石家大院

C.靜園

19. 廣東籍的中國近代著名思想家梁啟超曾長時間於天津閉門著書，其寓居之地名為：(B)

A. 卓如書院

B. 飲冰室

C. 任公室

20. 河北省因地處華北平原，\_\_\_\_\_（河流名稱）下游北岸而得名。(A)

A. 黃河

B. 長江

C. 淮河

21. 以下哪一項不屬於磁山文化遺址三項世界之最？(B)

A. 最早由人工培植粟類

B. 最早製作陶器

C. 最早種植核桃

22. 「風蕭蕭兮易水寒，壯士一去不復還」是荊軻出發刺殺秦始皇之前唱的《易水歌》中的名句。其中易水屬於今天河北省的易縣，在戰國時代屬於：(C)

A. 趙國

B. 魏國

C. 燕國

23. 「邯鄲學步」這個成語最早出自《莊子·秋水》。用來比喻一味地模仿別人，不僅沒學到本事，反而把原來的本事也丟了。邯鄲在戰國時曾是\_\_\_\_\_都城。(B)

A. 秦國

B. 趙國

C. 齊國

24. 位於河北邢台的扁鵲廟是中國建築年代最久、規模最大、保存最為完整的紀念祭祀扁鵲廟群。其供奉的是生活於\_\_\_\_\_時代的中國古代四大名醫之一扁鵲。

(B)

A.西周

B.戰國

C.秦

25. 下圖為位於今河北省臨漳縣境內的一處北魏、東魏時代的古城遺址。其古名為：(A)



A.鄴城

B.金鳳

C.靈壽

26. 古稱常山、真定，明清時期稱為正定府的今河北省省會是：(C)

A.保定

B.邯鄲

C.石家莊

27. 下圖所示的是河北省特色的農民畫。被國家文化部首批命名為「中國現代民間繪畫畫鄉」的河北省城市是：(C)



A.石家莊

B.邢台

C.辛集


28.以下哪一項不屬於「河北四寶」？(B)

A.隆興寺銅菩薩像

B.涿州雙塔

C.滄州鐵獅子

29.下圖所示的是位於河北的一段明長城遺址。其名為：(A)



A.喜峰口西潘家口段長城

B.黃崖關長城

C.嘉峪關長城

30.山西傳統名菜「過油肉」的關鍵烹飪步驟是？(B)



A.油炸後燉煮

B.肉片先滑油再快炒

C.炭火慢烤

31.山西自古被稱為「表里山河」，因其所處位置南臨\_\_\_\_\_，西鄰呂梁山，東靠太行山。(A)

A.黃河

B.淮河

C.長江

32.古稱平陽，有「三代京華，兩朝重鎮」之稱的山西城市是：(C)

A.太原

B.忻州

C.大同

33.周代，晉國由山西境內崛興，並逐步掃清了山西境內的諸侯和戎狄勢力，\_\_\_\_\_曾為春秋五霸之一。(A)

A.晉文公

B.晉莊公

C.晉哀公

34.下圖所示是山西省太原的\_\_\_\_\_聖母殿中的宋代彩塑像。這個所謂「聖母」，乃周武王姬發的妻子邑姜，其子成王誦剪桐葉，封弟叔虞為唐國（即後來的晉）的「侯」。(C)



- A. 晉廟
- B. 聖母祠
- C. 晉祠

35 \_\_\_\_\_ 意喻「永錫祚胤」，為「太原八景」之一，也成為了太原城市的標誌。  
(B)

- A. 水錫寺
- B. 永祚寺
- C. 凌霄寺

36 \_\_\_\_\_ 是中國唯一一個青廟與黃廟交相輝映的佛教道場，其中「青廟」指漢傳佛教，而「黃廟」指藏傳佛教。(B)



- A. 華山
- B. 五台山
- C. 武當山

37. 下圖所示是位於中國山西省大同市西郊的「中國四大石窟」之一的雲岡石窟，亦是中國第一處由皇室顯貴主持開鑿的大型石窟，其主要建於哪一個朝代？(B)



- A. 西晉
- B. 北魏
- C. 東漢

38. 下圖所示為雷履泰塑像，他創建於平遙有「清朝第一大票號」之稱的\_\_\_\_\_。(C)



- A. 源豐潤
- B. 天順祥
- C. 日昇昌

39. 位於山西的\_\_\_\_\_與函谷關、仙霞關、劍門關並稱中國四大古關口。(C)

- A. 山海關
- B. 黃崖關
- C. 雁門關

40. 內蒙古自治區成立的時間是：(A)

- A.1947年5月1日
- B.1945年8月15日
- C.1949年10月1日

41.蒙古族傳統節日「那達慕大會」的三大經典競技項目是？(A)



- A.賽馬、摔跤、射箭
- B.拔河、射弩、登山
- C.賽駱駝、馬球、刀術

42. \_\_\_\_\_舊稱歸綏，別稱青城，是內蒙古自治區首府。(A)

- A.呼和浩特
- B.鄂爾多斯
- C.滿洲里

43.內蒙古「東風航天城」（酒泉衛星發射中心）實際位於哪個盟？(A)

- A.阿拉善盟
- B.興安盟
- C.巴彥淖爾盟

44.蒙古包「哈那」指的是哪個結構部分？(B)

- A.頂部天窗
- B.可折疊的木柵欄牆體
- C.毛氈外罩

45.內蒙古自治區氣候以\_\_\_\_\_為主。(A)

A. 溫帶大陸性季風氣候

B. 溫帶海洋氣候

C. 亞熱帶季風季候

46. 歷史上「昭君出塞」的故事中，王昭君嫁給了匈奴哪位首領？(B)

A. 冒頓單于

B. 呼韓邪單于

C. 頭曼單于

47. 下圖所示為被稱作\_\_\_\_\_的蒙古族節日活動，意在祭祀天、地、火、水諸神，感恩大自然的恩惠，祈禱風調雨順，人畜興旺。(C)



A. 成吉思汗祭

B. 那達慕

C. 祭敖包

48. 位於內蒙古自治區錫林郭勒盟正藍旗草原的\_\_\_\_\_遺址在 2012 年被列入《世界文化遺產名錄》。(B)

A. 金中都

B. 元上都

C. 元大都

49. 長江孕育了良渚文化，黃河孕育了仰韶文化，西遼河孕育了\_\_\_\_\_文化，它們同處於新石器時代，都是中華文明「滿天星斗」中的一顆。(B)

A. 河姆渡

B.紅山

C.龍山

50.遼寧省省會瀋陽擁有 2300 年以上的建城史，是\_\_\_\_\_文化的發源地和興盛地。(B)

A.蒙古族

B.滿族

C.漢族

51.我國第一艘航母是用\_\_\_\_\_省的名稱命名的。(B)



A.吉林

B.遼寧

C.浙江

52.在中國近代史上，有三次大的移民潮，分別是闖關東、走西口、下南洋。其中，闖關東的「關」指的是：(B)

A.居庸關

B.山海關

C.玉門關

53.瀋陽故宮（如下圖）是清朝定都瀋陽至遷都北京前使用的帝王宮殿，它的建築風格融合了？(A)



- A. 滿漢蒙藏元素
- B. 純漢式宮殿
- C. 日式唐風建築

54. 在「九一八」事變中，被日軍炮轟的東北軍駐地北大營位於？(A)

- A. 瀋陽市
- B. 北京市
- C. 長春市

55. 位於遼寧瀋陽的清昭陵俗稱北陵，是後金第二代大汗、清朝開國皇帝\_\_\_\_\_與孝端文皇后的合葬陵墓。(A)

- A. 皇太極
- B. 康熙
- C. 雍正

56. 遼寧省最大的港口是？(A)

- A. 大連港
- B. 營口港
- C. 丹東港

57. 大連旅遊資源豐富。歷史因素使大連市內擁有 19、20 世紀殖民主義時期建築，主要是俄國和\_\_\_\_\_風格的建築。(C)

- A. 美國

B.英國

C.日本

58.盛京三陵是瀋陽的著名旅遊景點。其包括清昭陵、\_\_\_\_\_和清永陵。(C)

A.清東陵

B.清西陵

C.清福陵

59.下圖是於遼寧省\_\_\_\_\_境內的紅海灘景區，其成因是城蓬草——即一種適宜在鹽鹼土質，也是唯一一種可以在鹽鹼土質上存活的草，在深秋成熟時植株火紅，熱烈如火。(B)



A.葫蘆島市

B.盤錦市

C.鐵嶺市

60.如圖為中國著名的「日光城」是指\_\_\_\_\_?(B)



A.昆明

B.拉萨

C.西宁

61. 中國唯一一個省市同名的城市是哪裏？(B)

A.長春

B.吉林

C.黑龍江

62. 位於長白山山頂的天池是\_\_\_\_\_三江之源，亦為中國最深的湖泊。(A)

A.松花江、圖們江、鴨綠江

B.松花江、黑龍江、鴨綠江

C.圖們江、鴨綠江、黑龍江

63. 長白山天池是中朝界湖，其形成原因是？(A)



A.火山口湖

B.冰川湖

C.斷層湖

64. 長春偽滿皇宮博物院是國內現存三大宮廷遺址之一，是在\_\_\_\_\_末代皇帝愛新覺羅·溥儀居住使用的偽滿洲國傀儡皇宮改造而成的博物館。(C)



A.元朝

B.明朝

C.清朝

65.黑土地是大自然對吉林的饋贈，吉林省萬昌鎮有「中國\_\_\_\_\_貢米之鄉」的美譽。(A)

A.粳稻

B.秈稻

C.糯稻

66.位於長春市的\_\_\_\_\_水質清澈，銀波蕩漾，其秀美的景色堪與台灣的日月潭相媲美，被譽為日月潭的姊妹潭。(A)



A.淨月潭

B.興凱湖

C.天池

67.中國第一輛國產汽車「解放牌」誕生於？(B)

A.哈爾濱車輛廠

B.長春第一汽車製造廠

C.瀋陽金盃工廠

68. 以下哪個不屬於長春世界雕塑園的主題？(B)

- A. 友誼
- B. 冬天
- C. 春天

69. \_\_\_\_\_，是新中國第一個電影製片廠，被譽為「中華人民共和國電影的搖籃」，拍攝了影響多代中國人的電影作品，如《白毛女》、《英雄兒女》等。(A)

- A. 長春電影製片廠
- B. 上海電影製片廠
- C. 北京電影製片廠


70. 地形大體可概括為「五山一水一草三分田」的省份是。(C)

- A. 遼寧省
- B. 山西省
- C. 黑龍江省

71. 位於黑龍江省大興安嶺地區的中國最北城市是：(B)

- A. 齊齊哈爾
- B. 漠河
- C. 琿春

72. 「中國雪鄉」雙峯林場位於黑龍江的\_\_\_\_\_。(C)



- A. 大興安嶺
- B. 小興安嶺

C.張廣才嶺

73.哈爾濱「聖索菲亞大教堂」最初是哪種宗教場所？(A)



A.東正教

B.天主教

C.伊斯蘭教

74.哈爾濱屬中溫帶大陸性季風氣候，冬季嚴寒漫長，夏季涼爽短促，是冰雪旅遊和避暑勝地。下圖所示的哈爾濱著名冰雪旅遊景點是：(B)



A.冰雪城堡

B.冰雪大世界

C.莫斯科世界

75.下圖所示的鄂倫春族的傳統民居「斜仁柱」用什麼材料搭建？(B)



- A. 木桿、茅草、棉絮
- B. 木杆、樺樹皮或狗皮
- C. 紅泥、粗砂、石灰塊

76. 五大連池風景區內座落了 14 座火山，擁有「保存最完整、分布最集中、品類最齊全」的新老期火山地質地貌，被譽為「天然火山博物館」和「打開的火山教科書」。其中最古老的火山，形成於？(A)

- A. 新生代第四紀
- B. 中生代侏羅紀
- C. 古生代寒武紀

77. 被譽為「民國四大才女」之一的蕭紅出生於黑龍江省哈爾濱市，病逝於香港，以下哪部不是她的文學作品：(B)

- A. 《生死場》
- B. 《赤地之戀》
- C. 《馬伯樂》

78. 龍江第一灣是\_\_\_\_\_源頭流經紅旗嶺段形成一個「Ω」形江灣，因其景觀獨特、氣勢磅礴俗稱為「龍江第一灣」，又因其半島周邊被沙灘環繞在陽光照耀下閃若金光而被稱為「金環島」。(B)

- A. 松花江
- B. 黑龍江

C.怒江

79.有「神州北極」之稱的北極村，古風淳樸，靜溢清新，景色宜人。每逢夏至，前來觀賞「北極光」和「極晝」的遊人絡繹不絕；北極村位於黑龍江省的哪一個城市？(B)



A.伊春市

B.漠河市

C.齊齊哈爾市

80. 天津皇會，也稱為媽祖祭典，是中國北方獨有的一種媽祖祭典，流行於天津市南開區，是國家級非物質文化遺產之一。小施想去參加天津皇會的慶典她需要\_\_\_\_\_去？(B)



A.農曆正月初一至十五 B.農曆三月十五至二十三 C.農曆七月初一至初七

81.上海的文化被稱為\_\_\_\_\_，其主體根植於江南地區傳統的吳越文化，並且融入了開埠以後來自歐美各國的西方文化，而逐步形成的一種不同於中國其他地區的獨特文化。(B)



- A. 滬文化
- B. 海派文化
- C. 碼頭文化

82. \_\_\_\_\_是上海市界內最大河流，被稱為「上海的母親河」，將上海分割成了浦西和浦東。(A)



- A. 黃浦江
- B. 長江
- C. 秦淮河

83. 如下圖所示，與陸家嘴金融中心隔黃浦江相望，被稱為「東方華爾街」的上海重要地標是：(C)



- A. 靈石路
- B. 南京路
- C. 外灘

84. 如圖所示是被稱為「東方明珠」的上海廣播電視塔，其設計概念來自唐代詩人\_\_\_\_\_的詩《琵琶行》一節中大珠小珠落玉盤的定格概念，由三個相距 7 米，呈品字形排列的圓筒體和三個與地面成 60 度角，直徑達 7 米的斜撐構成主體，期間排列貫穿了 11 個大小不等的球體。(C)

- A. 李白
- B. 杜甫
- C. 白居易

85. 上海開埠後逐漸發展為遠東最繁榮的經濟和商貿中心，被譽為「十里洋場」和「冒險家的樂園」。首批在上海設立租界的國家有法國、美國和\_\_\_\_\_。(C)

- A. 德國
- B. 俄國
- C. 英國

86. 下圖所示的\_\_\_\_\_是上海第一座外廊式公寓大樓，也是上海的第一「網紅」老建築。(B)



- A. 上海大廈
- B. 武康大樓
- C. 國際飯店


87. 下圖所示是\_\_\_\_\_在香港演出的場景。2016年，其攜帶原創歌劇《雷雨》獻演英國國家歌劇院駐地倫敦大劇院，是中國歌劇首次以商業演出的形式走出國門。

(A)



- A. 上海歌劇院
- B. 上海曲藝團
- C. 北京歌舞團

88. 第41屆世界博覽會於2010年5月1日至10月31日在\_\_\_\_\_舉辦：(A)



A.上海

B.北京

C.杭州

89. 由原霍光行祠改建而成的上海最主要的道教正一派道觀是：(C)

A.靜安寺

B.永寧寺

C.城隍廟

90. 江蘇這個名字最早見於清初，是蘇州府（今蘇州市）和\_\_\_\_\_（今南京市）的合稱。(C)

A.建康府

B.金陵府

C.江寧府

91. 擁有「六朝古都」「十朝都會」之稱的江蘇省會是：(B)

A.蘇州

B.南京

C.杭州

92. 下圖所示的\_\_\_\_\_位於南京市紫金山南麓，是中國近代偉大的民主革命先行者孫中山先生的陵寢及其附屬紀念建築群。(B)



- A. 孫文陵
- B. 中山陵
- C. 中山廟

93. 下圖所示的是位於南京的一處以夫子廟為中心、廟市街景合一的景區。其下流淌的河流名為：(B)



- A. 長江
- B. 秦淮河
- C. 揚子江

94. 《紅樓夢》的作者曹雪芹出生於南京。他將書中的十二個主要女性角色命名為：(B)

- A. 南京十二釵
- B. 金陵十二釵
- C. 金陵十三釵

95.蘇式園林是中國古典園林的重要流派，亦是江南園林的重要代表。在「中國四大名園」中蘇州園林獨佔其二，它們分別是：(A)

- A.留園和拙政園
- B.頤和園和獅子林
- C.避暑山莊和滄浪亭

96.下圖是江蘇省昆山市的特色麵食，有「奧妙在灶頭裡」之意，它的名字是？(B)



- A.陽春麵
- B.奧灶面
- C.醬油面

97.下圖所示是發源於蘇州崑山地區的一種戲曲藝術，因其曲調細膩婉轉，有「水磨腔」的美稱，在2001年被聯合國教科文組織列為「人類口述和非物質遺產代表作」。它的名字是\_\_\_\_\_。(B)



- A.吳曲
- B.昆曲
- C.蘇曲

98.位於江蘇北部的蘇魯皖三省交界處，被譽為九省通衢的城市是：(B)

A.連雲港

B.徐州

C.宿遷

99.《資治通鑒》中雲：唐時「揚州富庶甲天下，時人稱『揚一益二』。」請問「揚一益二」是形容社會的哪一方面？(A)

A.經濟

B.政治

C.文化影響力

100.杭州西湖以「文化景觀」類別被列入世界遺產名錄的年份是？(C)



A.2009年

B.2010年

C.2011年

101.《富春山居圖》以浙江富春江為背景，被譽為「畫中之蘭亭」，屬國寶級文物，是\_\_\_\_\_的代表作。(B)

A.徐渭

B.黃公望

C.趙孟頫

102. 明朝浙江經濟逐步發展，手工業以\_\_\_\_\_為盛，杭嘉湖（杭州、嘉興、湖州）成為全國的中心。(C)


- A. 制陶業
- B. 制銅業
- C. 絲織業

103. 浙江「千島湖」的形成原因是？(B)



- A. 火山堰塞湖
- B. 人工水庫蓄水
- C. 冰川侵蝕湖

104. 下圖是位於浙江省紹興市的蘭亭景區，是東晉大書法家王羲之的園林住所，因被譽為「天下第一\_\_\_\_\_」的《蘭亭集序》而聞名。(C)



- A. 草書
- B. 楷書
- C. 行書

105. 浙江「雁蕩山」以什麼地質奇觀入選世界地質公園？(A)



A. 火山流紋岩地貌

B. 喀斯特峯林

C. 花崗岩球狀風化

106. 在良渚文化遺址的出土文物中，以\_\_\_\_\_最為著名。(A)

A. 黑陶、玉器

B. 陶器、骨器

C. 石器、木器

107. 2005年8月15日，時任浙江省委書記習近平來到浙江\_\_\_\_\_調研，首次提出「綠水青山就是金山銀山」的科學論斷。(C)

A. 安吉俞村

B. 文成余村

C. 安吉余村

108. 浙江是越劇的故鄉，其經典劇碼有？(C)

A. 《西施淚》《斷橋》

B. 《王子復仇記》《杜麗娘》

C. 《梁山伯與祝英台》《五女拜壽》

109. 小詹在重慶遊玩的途中打卡了一處有著現實版「千與千尋」之稱的景點（下圖），請問這個景點是？。(B)



- A. 長江索道
- B. 洪崖洞
- C. 大足石刻

110. 安徽省在地理上屬於華東地區，地跨\_\_\_\_\_和長江。(C)



- A. 黃河
- B. 皖河
- C. 淮河

111. 位於安徽南部原徽州府的\_\_\_\_\_與粵商、晉商、浙商、蘇商一道，在歷史上被合稱為「五大商幫」。(B)


- A. 皖商
- B. 徽商
- C. 淮商

112. 位於安徽省南部，被世人譽為「天下第一奇山」的是：(C)



- A. 泰山
- B. 華山
- C. 黃山

113. 如下圖所示，黃山素以\_\_\_\_、怪石、雲海、溫泉「四絕」著稱。(A)



- A. 奇松
- B. 觀景台
- C. 雲台

114. 以下為安徽省省花的是？(C)

- A. 月季
- B. 水仙
- C. 杜鵑

115. 安徽「三河古鎮」因哪三條河流交匯得名？(B)

- A. 長江、淮河、新安江
- B. 豐樂河、杭埠河、小南河
- C. 青弋江、水陽江、漳河

116. 下圖所示為產自於黃山的一種特色綠茶，其名為：(B)



- A. 毛尖
- B. 太平猴魁
- C. 鐵觀音

117. 東漢著名的樂府詩《孔雀東南飛》是我國文學史上最早的一首長篇敘事詩，故事的發生地是\_\_\_\_\_潛山。(C)

- A. 合肥
- B. 滁州
- C. 安慶

118. 如下圖所示，黃山被尊為中國\_\_\_\_\_的搖籃。明末清初形成的黃山畫派以黃山為背景作畫，駐足於黃山，潛心體味黃山真景，描繪黃山神妙絕倫的風景名勝。

(B)



- A. 人物畫
- B. 山水畫
- C. 花鳥畫

119. 古代審判罪犯時經常用的一個刑罰叫做「流放嶺南」，請問這裏的「嶺南」指的是現在的什麼地區？。(A)



- A. 廣東廣西地區
- B. 湖南湖北地區
- C. 福建地區

120. 迄今為止，在聯合國教科文組織非遺保護三個系列上獲得大滿貫的省份是哪個？(A)

A.福建

B.貴州

C.廣東

121.被中世紀世界著名旅行家馬可·波羅譽為「世界第一大港」，亦在一帶一路戰略中被定位為「21世紀海上絲綢之路先行區」的是？(A)

A.泉州

B.漳州

C.福州

122.以下城市中，哪一個不是福建「國家歷史文化名城」？

A.福州市

B.漳州市

C.武夷山市

123.«程朱理學»中的「朱」指的是誰？(B)

A.朱温

B.朱熹

C.朱耷

124.位於廈門市，有「海上花園」「萬國建築博覽會」「鋼琴之島」之美稱的小島是？(B)

A.角嶼

B.鼓浪嶼

C.瑯岐島

125.福建有4個中國歷史文化街區，這4個中國歷史文化街區中，哪一個位處福州？(A)

A.三坊七巷歷史文化街區

B.中山路歷史文化街區

C.鼓浪嶼歷史文化街區

126.連史紙，原產江西、福建，素有「壽紙千年」之稱，採用\_\_\_\_\_為原料，鹼法蒸煮，漂白製漿，手工竹簾抄造等工藝製成。因其表面細膩，吸水性強，除用於書畫印製外，更常用於篆刻藝術中。(C)

A.桑

B.麻

C.嫩竹

127.大紅袍屬於哪一類茶？(C)



A.鐵觀音

B.普洱茶

C.烏龍茶

128.森林覆蓋率連續 43 年居全國第一位，號稱中國最「綠」的省份是哪裏？(C)

A.黑龍江省

B.廣東省

C.福建省

129.以下簡稱和省會對應正確的是：(A)

A.贛—南昌

B.贛—南京

C.鄂—南昌

130.江西省南昌市有一座地標性古建築，為「江南三大名樓」之一，初唐詩人王勃曾在此留下「落霞與孤鶩齊飛，秋水共長天一色」的名句。它是：(A)

A. 滕王閣

B. 岳陽樓

C. 黃鶴樓

131. 景德鎮是世界著名的「瓷都」，以下哪一項是景德鎮的傳統陶瓷製作技藝？

(A)



A. 青花瓷製作技藝

B. 彩繪瓷製作技藝

C. 玉雕藝術

132. 唐宋八大家，又稱為「唐宋散文八大家」，是唐代和宋代八位散文家的合稱，分別為唐代韓愈、柳宗元和宋代歐陽修、蘇洵、蘇軾、蘇轍、王安石、曾鞏。唐宋八大家中，江西籍者多達三位，他們是：(B)

A. 蘇洵、蘇軾、蘇轍

B. 歐陽修、王安石、曾鞏

C. 韓愈、蘇洵、蘇轍

133. 南宋末年，江西出了一位千古留名的政治家、文學家、民族英雄，曾在詩作《過零丁洋》中留下「人生自古誰無死，留取丹心照汗青」的名句。他是：(C)

A. 楊萬里

B. 解縉

C. 文天祥

134.江西有一座名山特別受歷代文人墨客青睞。陶淵明的「采菊東籬下，悠然見南山」、李白的「飛流直下三千尺，疑是銀河落九天」、蘇軾的「橫看成嶺側成峰，遠近高低各不同」等都是描寫它的名句，被世人千古傳誦。它是：(A)

- A.廬山
- B.龍虎山
- C.明月山

135.江西籍明代著名科學家宋應星創作了世界上第一部關於農業和手工業生產的綜合性著作，全書分為上中下三卷 18 篇，並附有 123 幅插圖，描繪了 130 多項生產技術和工具的名稱、形狀、工序。外國學者稱它為「中國 17 世紀的工藝百科全書」。這本書的書名是：(B)

- A.《本草綱目》
- B.《天工開物》
- C.《齊民要術》

136.景德鎮之名來源於\_\_\_\_\_的年號

- A.宋真宗
- B.宋仁宗
- C.宋太祖

137.據不完全統計，香港的客家人約有 200 萬人。江西省\_\_\_\_\_市被譽為「客家搖籃」，它位於贛閩粵客家大本營最北端，是接受北方漢民南遷的第一站。(A)

- A.贛州
- B.撫州
- C.九江

138.8 月 1 日是中國人民解放軍建軍節。1927 年 8 月 1 日，\_\_\_\_\_城頭一聲槍響，標誌着中國共產黨獨立領導革命戰爭和創建人民軍隊的開端。如今，這座城市被譽為「英雄城」和「人民軍隊的搖籃」。(C)

- A.安源

B.瑞金

C.南昌

139.被聯合國教科文組織批准列為中國第一個世界文化與自然雙重遺產的風景名勝是？(A)

A.泰山

B.黃山

C.長城

140.青島於 2008 年成功舉辦了奧運會\_\_\_\_\_比賽。(B)

A.賽馬

B.帆船

C.賽艇

141.曾被乾隆皇帝稱為「第一泉」，是泉城濟南七十二名泉之首的泉水名為？(A)



A.趵突泉

B.珍珠泉

C.百脈泉

142.圖片中是青島哪個標誌性城市雕塑？(A)



A.五月的風

B.貝殼塔

C.六月的風

143.孔子的故鄉是山東省的哪個城市？(B)

A.濟南

B.曲阜

C.青島

144.以下哪項是山東省的非物質文化遺產？(B)

A.昆曲

B.山東快書

C.京劇

145.台兒莊古城位於哪個城市？(A)

A.棗莊

B.濟南

C.濟寧

146.東營的黃河入海口指的是什麼海？(C)

A.黃海

B.東海

C.渤海

147.濟寧曲阜孔廟中的杏壇相傳是作何使用之處？(A)

A.孔子講學的地方

B.栽種桃、杏等果木的地方

C.祭拜孔子的地方

148.在港珠澳大橋建成以前，以下哪個是世界最長跨海大橋？(A)

A.青島膠州灣跨海大橋

B.杭州灣跨海大橋

C.上海東海大橋

149.河南省位於中國的哪個地理區域？(C)

A.華北地區

B.西北地區

C.中原地區

150.河南簡稱「豫」，是因為古代河南有很多什麼動物？(A)

A.大象

B.老虎

C.獅子

151.中國四大發明哪一個不是發明於河南？(C)

A.火藥

B.指南針

C.印刷術

152.北宋（960年2月4日—1127年3月20日）建都汴京（即東京汴梁），張擇端的世界名畫《清明上河圖》描繪的就是此地的景象，這是今天河南的\_\_\_\_\_（城市）。(C)

A.鄭州

B.洛陽

C.開封

153.少林寺始建於北魏太和十九年（495年），距今1500餘年，是漢傳佛教的禪宗祖庭，號稱「天下第一名剎」。其位於河南省的哪座城市？(C)



A.安陽

B.開封

C.登封

154.信陽毛尖又稱豫毛峰，是中國十大名茶之一，也是河南省著名特產之一，其屬於什麼類型的茶：(B)

A.紅茶

B.綠茶

C.黃茶

155.經典台詞「誰說女子享清閒，男子打仗到邊關，女子紡織在家園，白天去種地，夜晚來紡棉，不分晝夜辛勤把活幹，將士們才能有這吃和穿」出自於「新古典主義」音樂劇——常派經典《花木蘭》，其屬於：(A)

A.豫劇

B.京劇

C.越劇

156.下列哪四個城市均屬於中國八大古都：(C)

A.南昌；石家莊；保定；寧波

B.太原；唐山；東莞；佛山

C.洛陽；開封；安陽；鄭州

157.河南洛陽八大景，最早出現在清順治六年（1649）洛陽知縣武攀龍編修的《洛陽縣誌》中，指的是散布在洛陽城鄉的著名自然景觀和名勝古跡，那麼，位於洛陽八大景之首的是：(B)

A.洛浦秋風

B.龍門山色

C.白寺鐘聲

158.太極拳於 2020 年被列入人類非物質文化遺產，源於河南省焦作市。「太極拳」有多種流派，在河南的是\_\_\_\_\_。(B)

A.楊氏太極拳

B.陳氏太極拳

C.吳氏太極拳

159.湖北以在\_\_\_\_\_之北而得名。(A)

A.洞庭湖

B.鄱陽湖

C.青海湖

160.位於湖北的歷史著名的「雲夢澤」，其實是一個巨大的：(C)

A.河流

B.城池

C.沼澤

161.洪湖蓮藕有 2300 多年的種植歷史，其品種可分為「粉藕」和「脆藕」，以下哪個不是「粉藕」的特點？(C)

A.澱粉含量高

B.顏色偏粉

C.外皮光滑

162.湖北省省會武漢是中國經濟地理中心。長江及其最大支流漢江橫貫市區，將武漢一分為三，形成武昌、\_\_\_\_\_、漢陽三塊區域隔江鼎立的格局，史上統稱之為「武漢三鎮」。(C)

A.荊州

B.襄陽

C.漢口

163.發生於湖北武漢的武昌起義是\_\_\_\_\_年清朝新軍等力量在中國武漢武昌發動的兵變，旨在推翻清朝統治，是辛亥革命的開端。(B)

A.1900 年

B.1911 年

C.1937 年

164.下圖為現藏於湖北省博物館的一件春秋戰國時代的文物。其名為：(C)



A.青釭劍

B.魚腸劍

C.越王勾踐劍

165.下圖所示為遊客在武漢大學觀賞\_\_\_\_\_。(C)



- A. 桃花
- B. 梅花
- C. 櫻花

166. 下圖所示為武漢市內最為著名的一座大橋，它橫跨的是：(B)



- A. 漢江
- B. 長江
- C. 唐白河

167. 戰國時期楚國辭賦家\_\_\_\_\_，是今湖北省宜昌市秭歸縣人。他是我國第一位偉大的愛國主義詩人，我國浪漫主義詩歌的奠基人。(C)

- A. 伍子胥
- B. 杜甫
- C. 屈原

168. 貫穿湖南全境亦是湖南省內最大河流的是：(C)

A.長江

B.黃河

C.湘江

169.瀏陽河是湘江下游東側重要一級支流，位於中國湖南省長沙市境內。因為歌頌\_\_\_\_\_的歌曲《瀏陽河》而聞名。(B)

A.孫中山

B.毛澤東

C.周恩來

170.素有「屈賈之鄉」「瀟湘洙泗」之譽的湖南省省會城市是：(C)

A.岳陽

B.衡陽

C.長沙

171.1972-1974年，考古工作者先後在湖南長沙發掘了3座西漢時期墓葬。被命名為\_\_\_\_\_的這批墓葬結構宏偉複雜完整，出土絲織品、帛書、帛畫、中草藥等重要文物3000餘件。下圖所示即為\_\_\_\_\_所出土的漢代絲織物。(C)



A.三星堆

B.曾侯乙墓

C.馬王堆漢墓

172.岳麓書院位於中國湖南省長沙市岳麓區岳麓山東麓，是中國古代四大書院之一，始建於北宋開寶九年，至今仍為\_\_\_\_\_下屬的辦學機構。(A)

- A.湖南大學
- B.中國科學技術大學
- C.湖北大學

173.下圖所示為位於長沙的毛澤東青年藝術雕塑，它矗立於\_\_\_\_\_：(C)



- A.天心閣
- B.岳麓山
- C.橘子洲

174.下圖畫作所示的，位於湖南岳陽，與南昌滕王閣，湖北武漢黃鶴樓，山西運城鶴雀樓並稱「中國四大名樓」的是：(B)



- A.蓬萊閣

B.岳陽樓

C.越王樓

175.「先天下之憂而憂，後天下之樂而樂」是名篇《岳陽樓記》中的名句。《岳陽樓記》的作者是：(C)

A.蘇軾

B.歐陽修

C.范仲淹

176.君山位於湖南岳陽西部的洞庭湖中，是一個小島。古代稱為湘山、洞庭山，因屈原在\_\_\_\_\_中把葬於此的二妃稱為湘君和湘夫人，故後人將此山改名為君山。

(C)

A.《楚辭》

B.《離騷》

C.《九歌》

177.被譽為「湘西第一神山」「武陵之魂」和「張家界之魂」的是？(A)

A.天門山

B.桃花源

C.鳳凰古城

178.盛產荔枝的華南地帶是以下哪個省份？(C)

A.新疆維吾爾自治區

B.海南省

C.廣東省

179.丹霞山位於廣東省\_\_\_\_\_，又被稱為「中國紅石公園」。作為世界地質公園，丹霞山其色如渥丹、燦若明霞的色彩，其頂平身陡的形狀，每年都會吸引眾多科學家和遊人的探秘。(C)

A.汕頭市

B.湛江市

C.韶關市

180.「啫啫鸡煲」是一道著名的粵菜，其中的「啫啫」指的是？(B)



A. 肉的香味

B. 肉汁快速蒸發而發出的聲音

C. 肉的紅潤色澤

181.廣州市的市花是\_\_\_\_\_。(B)

A.梅花

B.木棉花

C.桃花

182.廣東省三大族群形成三大傳統文化，包括：廣府文化、客家文化和\_\_\_\_\_。

(C)

A.嶺南文化

B.儒家文化

C.潮汕文化

183.被譽為「嶺南第一山」，因蘇東坡曾在這裏作下「日啖荔枝三百顆，不辭長作嶺南人」的名句而聞名於世的山是？(A)

A.羅浮山

B.丹霞山

C.西樵山

184.潮汕地區喜用\_\_\_\_\_（一種肉類）製作火鍋和肉丸。(C)

A. 羊肉

B. 豬肉

C. 牛肉

185. 粵語是廣東地區的主要方言之一，粵語的日常口語中，「早晨」意指。(C)

A. 吃早飯

B. 飲早茶

C. 早上好

186. 廣東肇慶有一個景點享有「西湖之水，桂林之山」之美譽，它是：(B)

A. 廣州塔

B. 七星岩

C. 可園

187. 汕尾陸豐市玄武山景區內有一座始建於南宋年間的\_\_\_\_\_，距今已有近 900 年歷史，這裏蘊含大量珍貴寺藏文物和不可移動文物，記載着中華民族，特別是廣東沿海人民抗擊外來侵略，保家衛國的輝煌史蹟。(B)

A. 玄山寺

B. 元山寺

C. 南山寺

188. 廣西壯族自治區南瀕北部灣，與哪個國家接壤？(C)

A. 泰國

B. 緬甸

C. 越南

189. 客家围龙屋的主要建筑特点是？(B)



- A. 四合院式
- B. 前低後高，圍合布局
- C. 獨棟別墅

190. 古稱邕州的廣西壯族自治區首府是？(A)

- A. 南寧
- B. 南京
- C. 廣州

191. 佛山武術中，哪一種武術流派最為著名？(B)



- A. 少林拳
- B. 太極拳
- C. 詠春拳

192. 廣西少數民族眾多，其中\_\_\_\_\_人口佔比超過一半。(C)

- A. 傣族
- B. 彝族

C.壯族

193.「壯族三月三」是廣西壯族重大的傳統節日之一，2014年廣西壯族自治區確定「壯族三月三」為法定假期，是多個民族重要的節日。節日中既包含了壯族豐富的歌謠文化，亦包括多項傳統民俗文化，以下民俗不屬於「壯族三月三」的是？(C)

A.打扁擔

B.拋繡球

C.賽竹艇

194.廣泛分布於我國南方各省，被稱為「中國虎」的是：(C)

A.東北虎

B.西北虎

C.華南虎

195.擁有南寧母親河美譽的珠江流域西江的支流是：(C)

A.湘江

B.桂江

C.邕江

196.被讚為「山水甲天下」的廣西城市是：(B)

A.南寧

B.桂林

C.柳州

第十六屆全港學生中國國情知識大賽暨第五屆中國文化和旅遊知識競賽

197. \_\_\_\_\_ 位於中國廣西桂林市內，桃花江與灕江匯合處，是桂林的城徽，因形狀好像一隻飲水的大象而得名：(C)

- A. 伏波山
- B. 疊彩山
- C. 象鼻山

198. 中華人民共和國海洋面積最大、陸地面積最小的省，是與雷州半島以 \_\_\_\_\_ 為界隔海相望的海南省。(B)

- A. 台灣海峽
- B. 瓊州海峽
- C. 渤海海峽

199. 中國領土最南端是？(C)

- A. 天涯海角
- B. 西沙群島
- C. 曾母暗沙

200. 下圖所示為海南東寨港國家級自然保護區。是全國首個以 \_\_\_\_\_ 為主的濕地自然保護區。(C)



- A. 雲杉
- B. 水杉
- C. 紅樹林

201.《海南自由貿易港建設總體方案》指出建立更加自由開放的航運制度。建設「\_\_\_\_\_」船籍港。支持海南自由貿易港開展船舶登記。(B)

- A. 中國海口港
- B. 中國洋浦港
- C. 中國東方港

202.墓地位於海南省海口市濱涯村，被譽為「海青天」的明代官員是誰？(B)

- A. 海順
- B. 海瑞
- C. 海寧

203.下圖所示為長征五號火箭於海南島發射的場景。海南的航天發射場位於：(C)



- A. 海口
- B. 三亞
- C. 文昌

204.博鰲亞洲論壇由 25 個亞洲國家和\_\_\_\_\_發起（2006 年增加至 28 個），2001 年 2 月在海南成立。這是首個永久定址中國、非官方的國際性會議組織。(C)



- A. 歐洲
- B. 南美洲
- C. 澳洲

205. 下圖所示為海南省白沙黎族自治縣的農民們農忙時的場景。他們種植的作物是：(B)

- A. 油菜
- B. 茶葉
- C. 甘蔗

206. 我國發現的第一個隕石坑位於海南省\_\_\_\_\_，為距今約 70 萬年前一顆小行星墜落此處爆炸而成。(C)

- A. 文昌
- B. 海口
- C. 白沙

207. 下圖所示為海南熱帶雨林國家公園。其位於海南島中部的海南島上第一高山脈\_\_\_\_\_。(C)



- A. 崖山

B.瓊山

C.五指山

208. 唐卡的歷史可追溯到西元 7 世紀，當時佛教開始在西藏傳播。唐卡作為佛教教義的形象化載體應運而生，最初主要用於宗教儀式中的供奉與觀想。發展到今日，它已成為一種\_\_。(C)



A.裝飾畫卷

B.神像畫面

C.藝技融合品

209. 「山山有熱水，峽峽有溫泉」，有記載的溫泉養生文化超過 1600 年，2012 年被世界溫泉及養生聯合會（FEMTEC）評定為世界溫泉之都的城市是：(C)

A.成都

B.廣州

C.重慶

210. 「集岩溶地質奇觀、秦晉農耕文化、土家民俗文化、自然生態文化於一體，濃縮了中國武陵山區最美的原生態自然田園風光，傳承着土家族、苗族悠久的人文歷史與燦爛的民族文化」，說的是重慶 AAAAA 級風景區：(A)



- A. 西陽桃花源景區
- B. 阿依河景區
- C. 濯水古鎮

211. 江西省婺源縣位於江西省和安徽省交界處，被譽為「中國最美鄉村」。圖為每年 3 月，婺源\_\_\_\_\_開放的美麗景象。(A)



- A. 油菜花
- B. 桃花
- C. 櫻花

212. 「解放碑」位於重慶市渝中區，是抗戰勝利的精神象徵，是中國唯一一座紀念中華民族抗日戰爭勝利的紀念碑，請問「解放碑」的前身名為：(B)

- A. 精神堡壘
- B. 抗戰勝利紀功碑
- C. 人民解放紀念碑

213. 下圖展現的是位於江西的\_\_\_\_，2024 年成功入選「國家 5A 級旅遊景區」。

(A)



- A. 婺源篁嶺
- B. 龍虎山
- C. 安福武功山

214. 據《三國志》記載，章武元年（221年）劉備稱帝，任命諸葛亮為丞相，伐吳失敗後，劉備於白帝城病危，將諸葛亮招到白帝城，將兒子也就是後主劉禪託付給諸葛亮，史稱「劉備托孤」。劉備托孤的白帝城在重慶的：(C)

- A. 豐都縣
- B. 巫溪縣
- C. 奉節縣

215. 火鍋是中國的傳統飲食方法，起源於民間，歷史悠久。重慶火鍋，又稱為毛肚火鍋或麻辣火鍋，其由來是源於明末清初的重慶嘉陵江畔、朝天門等\_\_\_\_\_的粗放餐飲方法。(B)

- A. 小販
- B. 船工緯夫
- C. 商人

216. 洪崖洞原名洪崖門，是古重慶城門之一，是國家 5A 級旅遊景區，以下圖片的洪崖洞代表着哪種中國傳統民居形怯：(C)



- A. 四合院
- B. 圍龍屋
- C. 吊腳樓

217. 2014 年被列入「世界自然遺產名錄」，每當夏秋晚晴，落日斜暉把層層山崖映染得金碧輝煌，如一尊金身大佛交射出萬道霞光，異常壯觀，這就是被譽為「東方的阿爾卑斯山」和「世界植物基因庫」的：(C)

- A. 湖北十堰武當山
- B. 四川阿壩州四姑娘山
- C. 重慶南川金佛山

218. 被稱為「國寶」，主要棲息地為中國中西部四川盆地周邊山區的中国特有物種是：(C)

- A. 丹頂鶴
- B. 揚子鱷
- C. 熊貓

219. 成都金沙遺址博物館是在「2001 年全國十大考古發現」金沙遺址原址上興建的，是首批國家考古遺址公園、國家一級博物館。館藏\_\_\_\_\_（如下圖）的主題圖案被確定為中國文化遺產標誌和成都城市形象標識。(A)



A. 「太陽神鳥」金飾

B. 黃金面具

C. 青銅立人

220. 從戰國時期使用至今的中國著名水利工程「都江堰」的主持修建者是：(C)

A. 諸葛亮

B. 秦始皇

C. 李冰

221. 位於四川省成都市都江堰市西南的\_\_\_\_\_，是中國道教名山之一。(B)

A. 武當山

B. 青城山

C. 梧桐山

222. 中國四大佛教名山中，位於四川的是？(C)

A. 普陀山

B. 五台山

C. 峨眉山

223. 「杜甫草堂」是成都市著名人文旅遊景觀，其主人杜甫生活的朝代是：(C)

A. 漢代

B. 宋代

C. 唐代

224.成都市著名景點「寬窄巷子」由三條東西方向的老街組成，分別為寬巷子、窄巷子和：(A)

- A.井巷子
- B.大巷子
- C.老巷子

225. 位於西藏自治區拉薩市的大昭寺是西藏最重要的宗教場所之一，裡面供奉釋迦牟尼\_\_\_歲等身像。：(C)

- A.10
- B.15
- C.12

226.以下不屬於四川傳統藝術種類的是？(C)

- A.蜀綉
- B.白花石刻
- C.跳三鼓

227.四川省擁有很多高海拔旅遊景點，其中就包括稻城亞丁，它的最高峰海拔大概有：(B)



- A.8000m
- B.6000m
- C.2000m

228.貴州是一個多民族共居的省份，漢族佔全省總人口的63.89%，少數民族人口佔全省人口的 36.11%。素有\_\_\_\_\_之稱。(B)

A.和諧貴州

B.多彩貴州

C.團結貴州

229.「飛歌」又稱「恰央」，流行於貴州省東南部的台江、雷山、凱裏等地，是\_\_\_\_\_的主要山歌歌種。(C)

A.侗族

B.彝族

C.苗族

230.下圖所示的以湖汊多、島嶼多見勝的貴陽風景名勝是：(B)



A.西湖

B.百花湖

C.太湖

231.坐落於\_\_\_\_\_，素有「侗鄉第一寨」美譽的肇興侗寨是全國最大的侗族村寨之一，人口數量接近過萬人，以5大房族分局的5個自然片區組成，當地稱之為「團」，分別是仁團、義團、禮團、智團、信團。(C)

A.湖北省

B.湖南省

C.貴州省

232.下圖所示的\_\_\_\_\_瀑布位於貴州省安順市鎮寧布依族苗族自治縣，享有「中華第一瀑」之盛譽。(A)



- A.黃果樹瀑布
- B.壺口瀑布
- C.德天瀑布

233.黃果樹瀑布是典型的\_\_\_\_\_地貌地區瀑布，形成初期，上遊河水沿沂源侵蝕裂點下滲，形成了眾多地下河及溶洞。(B)

- A.丹霞
- B.喀斯特
- C.濕地

234.下圖所示的獨竹漂是發源於貴州省北部\_\_\_\_\_流域的一種民間絕技，原是當地人的水上交通工具，後來逐漸發展為當地苗族等少數民族的娛樂、比賽項目，於2021年被列入國家級非物質文化遺產。(C)



- A.湘江
- B.金沙江
- C.赤水河

235. 下圖所示的\_\_\_\_\_是梵淨山最具代表的山石景觀，是一方砂質板岩和石英砂岩石柱。(A)



- A. 蘑菇石
- B. 梵淨石
- C. 凹凸石

236. 梵淨山是西南地區著名的千年\_\_\_\_\_名山。(C)

- A. 道教
- B. 回教
- C. 佛教

237. 下圖所示為梵淨山的代表性景點：(C)



- A. 萬米睡佛
- B. 九龍池
- C. 紅雲金頂

238. 雲南是直立人重要的活動地之一，生活在距今 170 萬年前的\_\_\_\_\_，是迄今為止發現的中國乃至亞洲最早的直立人。(A)

- A. 元謀人

B.山頂洞人

C.東亞古猿

239.下圖所示的別稱「春城」的雲南省省會是：(C)



A.貴陽

B.成都

C.昆明

240.起自四川省的成都、雅安，雲南省的昆明、普洱等地，終點為西藏自治區的拉薩以及東南亞等地的古代商業路網是：(C)

A.絲綢之路

B.海上絲綢之路


C.茶馬古道

241.位於中國雲南省昆明市西南部的滇池為雲南省面積最大的高原淡水湖，也是中國第六大淡水湖，每年冬季也會吸引近四至五萬隻來自北西伯利亞地區的\_\_\_\_\_前來「過冬」（如下圖）。(C)



- A. 小燕鷗
- B. 白鷺
- C. 紅嘴鷗

242. 下圖所示為位於滇池上游的松華壩水源保護區的景色。圖中的中國特色珍貴樹種是：(B)



- A. 柳樹
- B. 水杉
- C. 榕樹

243. 雲南省昆明市區東北部的金殿是一座仿造\_\_\_\_\_的太和宮銅殿建造的金碧輝煌的明代建築，園內擁有眾多品種的茶花。(A)

- A. 武當山
- B. 太行山

C. 普陀山

244. 雲南省麗江市玉龍雪山位於玉龍\_\_\_\_\_自治縣境內，是北半球最近赤道終年積雪的山脈，面積達 960 平方公里，主峰扇子陡海拔 5596 米，高山雪域風景位於海拔 4000 米以上，擁有險、奇、美、秀的景色。(C)

A. 白族

B. 傣族

C. 納西族

245. 雲南昆明氣候宜人，因此園藝業十分發達，中國承辦的首屆世界園藝博覽會便是位於昆明。下圖所示為昆明植物館「扶荔宮」內被稱為「植物大熊貓」的\_\_\_\_\_。(C)



A. 金花茶

B. 珙桐

C. 兜蘭

246. 下圖所示為位於雲南省石林自治縣的「火把節」。石林自治縣的主體少數民族是：(B)



A. 蒙古族

B. 彝族

C. 回族

247. 東西寺塔是雲南省昆明市的兩座古塔，分別位於東寺街和書林街，其為\_\_\_\_\_遺物。(C)

A. 夜郎國

B. 吐蕃

C. 南詔國

248. 西藏自治區是中華人民共和國西南地區邊疆的一個藏族自治區。位於青藏高原上，首府為\_\_\_\_\_。(A)

A. 拉薩

B. 烏魯木齊

C. 西寧

249. 西藏部分地區在唐代被稱為\_\_\_\_\_，一度是與阿拉伯帝國和大唐並稱的亞洲三大帝國。(B)

A. 大理

B. 吐蕃

C. 夜郎

250. 分布於青藏高原南緣的世界海拔最高的山脈是：(C)

A. 崑崙山

B. 祁連山

C. 喜馬拉雅山

251. \_\_\_\_\_ 是喜馬拉雅山脈的主峰，是世界第一高峰，海拔 8848.86 公尺。(C)

A. 干城章嘉峰

B. 洛子峰

C. 珠穆朗瑪峰

252. 下圖所示的 \_\_\_\_\_ 坐落在拉薩市區西北的瑪布日山（紅山）上，是一座規模宏大的宮殿式建築群，最初是吐蕃王朝贊普松贊干布興建。(B)



A. 冬宮

B. 布達拉宮

C. 青藏宮

253. 於青藏高原北部羌塘高原核心地帶，世界上人口密度最小的地區之一，擁有獨特的高原自然風貌的是 \_\_\_\_\_ 地區？(C)

A. 可可西里

B. 喜馬拉雅

C. 阿里

254. 下圖所示的 \_\_\_\_\_ 於西藏阿里地區普蘭縣境內，被稱為「神山」。(A)



- A. 岡仁波齊峰
- B. 喜馬拉雅山
- C. 珠穆朗瑪峰

255. 下圖所示的\_\_\_\_\_是世界上平均海拔最高的淡水湖(4556 米)，位於中國西藏普蘭縣境內。(B)



- A. 布拉馬普特拉湖
- B. 瑪旁雍錯
- C. 納木錯

256. 下圖所示為海拔 5566 米的桑木拉達坂，其位於：(C)



- A. 拉薩
- B. 日喀則
- C. 阿里

257. 下圖所示為西藏阿里地區改則縣出現大規模\_\_\_\_\_聚集的景象。(C)



- A. 綿羊
- B. 山羊
- C. 藏羚羊

258. 「中國」一詞最早出現在\_\_\_\_\_上。(A)

- A. 何尊
- B. 四羊方尊
- C. 五祀衛鼎

259. 涇河與渭河「涇渭分明」，是發生在\_\_\_\_\_的奇特景觀。(C)

- A. 山東濰坊

B.河北秦皇島

C.陝西西安

260. 「幾回回夢裏回延安，雙手攆定寶塔山。千聲萬聲呼喚你，母親延安就在這裏！」這首詩的作者是：(C)

A.楊絳

B.錢鐘書

C.賀敬之

261. 茶馬互市是中國西部歷史上漢藏民族間一種傳統的以茶易馬或以馬換茶為中心內容的貿易往來，興起於\_\_\_\_\_時期。位於西寧城西湟源縣城的丹噶爾古城歷史上因茶馬互市而興盛，有「茶馬商都」的稱號。(A)



A.唐代

B.宋代

C.明代

262. \_\_\_\_\_是中國漢族最古老的戲劇之一，起於西周，源于西府區是陝西省寶雞市的岐山（西岐）與鳳翔（雍城）]，成熟于秦，為國家級非物質文化遺產之一。

(A)


A.秦腔

B.慶壇

C.花鼓戲

263. 联合国教科文组织保护非物质文化遗产政府间委员会第四次会并批准了热

贡艺术列入《人非物质文化遗产代表作名录》，热贡艺术主要指\_\_\_等佛教造型艺术，是藏传佛教的重要艺术流派。：(C)



- A.藏毯、壁画、堆绣、泥塑
- B.藏毯、壁画、堆绣、雕塑
- C.唐卡、壁画、堆绣、雕塑

264 \_\_\_\_\_的兩次出使西域，使漢朝同西域36國建立了友好的關係，開闢了中西通商道路——「絲綢之路」。(B)

- A.司馬遷
- B.張騫
- C.班超

265.1935年10月，中共中央和中央紅軍順利到達吳起鎮，\_\_\_\_\_成為中國革命的落腳點和出發點。(A)

- A.延安
- B.榆林
- C.西安

266 \_\_\_\_\_是位於陝西省的古代重大水利工程，促進了關中農業生產的發展，壯大了秦國的經濟實力。(C)

- A.都江堰
- B.京杭大運河
- C.鄭國渠

267.我國「宋代六大名窯」中位於陝西省的是：(A)

- A.耀州窯
- B.柴窯
- C.定窯

268.西雙版納的茶葉在歷史上久負盛名，其中\_\_\_\_茶較為著名。：(C)



- A.龍井
- B.鐵觀音
- C.普洱

269.漢代由於張騫通西域，位於甘肅的河西走廊成為\_\_\_\_\_的必經要道。(C)

- A.西天取經
- B.茶馬古市
- C.絲綢之路

270 \_\_\_\_\_，是在敦煌城以東 64 千米的一座遺址，原是漢唐年間瓜州與敦煌之間往來人員和郵件的一大接待、中轉驛站，類似現在的郵局。(A)

- A.懸泉置
- B.都倉置
- C.吞遠置

271.下圖中展現的藝術作品是敦煌石窟中的：(B)



- A. 木版畫
- B. 壁畫
- C. 水墨畫

272. 莫高窟（甘肅敦煌）、雲岡石窟（山西大同）、龍門石窟（河南洛陽）、與以下哪個石窟所稱中國四大石窟，是中國古代傳統文化藝術的歷史瑰寶？(B)

- A. 洛陽石窟
- B. 麥積山石窟
- C. 龍門石窟

273. 甘肅菜又稱為\_\_\_\_\_，風味以蘭州為代表。甘肅菜的特色是善烹牛羊肉，口味崇尚鹹鮮酸香辣，口味濃厚，肥膩。(B)

- A. 秦菜
- B. 隴菜
- C. 本幫菜

274. 蘭州市是甘肅省的省會。如下圖所示，有一條著名河流穿蘭州而過，它是：

(A)



- A. 黃河

B.長江

C.渭水

275. 中國工農紅軍第一、二、四方面軍的會寧會師標誌着舉世聞名的紅軍長征勝利結束。下圖所示為位於會寧的會師門。會寧現在屬於：(C)




A.蘭州市

B.酒泉市

C.白銀市

276. 甘肅省的民族構成較為多元化，不僅有漢族，還有回族、蒙古族、藏族等少數民族。下圖所示便是位於甘肅的一個少數自治州的自然和人文景觀，這個地方是\_\_\_\_\_，其主體民族是\_\_\_\_\_。(A)



A.甘南州，藏族

B.甘南州，回族

C.隴西，藏族

277. 嘉峪關長城在嘉峪關市西南隅，因建於嘉峪山麓而得名，是\_\_\_\_\_萬里長城西端的終點。(C)



A.清代

B.秦代

C.明代

278.青海是長江、\_\_\_\_\_、瀾滄江的發源地，故被稱為「三江源」。(C)

A.嘉陵江

B.揚子江

C.黃河

279.青海省位於中國西部、青藏\_\_\_\_\_東北部。(A)

A.高原

B.平原

C.盆地

280.下圖所示為環青海湖國際公路自行車賽，簡稱「環湖賽」，從2002年開始舉辦，每年的6至8月間在青海省的環青海湖地區和鄰近的甘肅省及寧夏回族自治區舉行。賽事的主題為「綠色、人文、和諧」，「綠色」意為：(A)



A.低碳環保

B.風景優美

C.鳥語花香

281.素有「西海鎖鑰、海藏咽喉」之稱的青海省省會是：(C)

A.西安

B.銀川

C.西寧

282.西寧市回族人口眾多，擁有諸如「東關清真寺」和「多巴清真寺」等諸多\_\_\_\_\_的寺廟。(C)

A.佛教

B.道教

C.伊斯蘭教

283.\_\_\_\_\_是我國藏傳佛教喇嘛教格魯派（又稱「黃教」）創始人宗喀巴的誕生地，是西北地區藏傳佛教的活動中心，在全國及東南亞享有盛名。(B)

A.弘化寺

B.塔爾寺

C.瞿曇寺

284.世界上唯一一座全面收藏、保護、展示和研究藏文化的綜合型博物館位於：

(A)

A.西寧

B.拉薩

C.呼和浩特

285.在潮汕這片文化底蘊深厚的土地上，英歌舞的源頭與哪個歷史風雲緊密相連，讓人熱血沸騰？(C)

第十六屆全港學生中國國情知識大賽暨第五屆中國文化和旅遊知識競賽



- A. 元朝鐵騎踏遍中原的悲壯
- B. 明朝海防抵禦倭寇的英勇
- C. 南宋勇士誓死抗金的豪情

286. 地處青海省西北部，阿爾金山、祁連山和昆崙山之間的中國地勢最高的內陸盆地是：(B)

- A. 塔里木盆地
- B. 柴達木盆地
- C. 阿爾泰盆地

287. 如下圖所示，位於青海省海西州，被稱為「火星秘境」的風景名勝是：(C)



- A. 海西戈壁
- B. 海西沙漠
- C. 茫崖

288. 寧夏之名意為「夏地安寧」。其中「夏」指的是公元十一至十三世紀以寧夏為主要勢力範圍的：(B)

- A. 夏

B.西夏

C.北宋

289. 寧夏平原，是黃河上游的第一大平原，屬於\_\_\_\_\_的一部分。(C)

A.關中平原

B.華北平原

C.河套平原

290. 寧夏平原位於寧夏北部引黃灌區。因其農牧業發達，湖泊眾多，濕地連片，風景優美故被稱為：(A)

A.塞上江南

B.小蘇杭

C.天府之國

291. 下圖所示是位於寧夏石嘴山市的著名風景名勝\_\_\_\_\_。(C)



A.太湖

B.西湖

C.沙湖

292. 寧夏沙坡頭國家級自然保護區，位於中衛市城區西部騰格里沙漠的東南緣。沙坡頭集大漠、黃河、高山、綠洲為一處，具西北風光之雄奇，兼江南景色之秀美。以下最能形容此景觀的詩是：(A)

A.大漠孤煙直，長河落日圓。——王維《使至塞上》

B.但使龍城飛將在，不教胡馬度陰山。——王昌齡《出塞》

C.黃河遠上白雲間，一片孤城萬仞山 ◎——王之渙《涼州詞》

293.下圖所示為\_\_\_\_\_，其是中國最早發掘的舊石器時代遺址之一，被譽為「東方史前考古的搖籃」 ◎(B)



A.河姆渡遺址

B.水洞溝遺址

C.紅山遺址

294.自古有「塞上明珠」之稱的寧夏回族自治區首府是：(C)

A.西安

B.蘭州

C.銀川

295.位於寧夏銀川市的\_\_\_\_\_是中國現存規模最大、地面遭贖保存最完整的帝王陵園之一，被譽為「東方金字塔」 ◎(C)

A.秦始皇陵

B.清孝陵

C.西夏王陵

296.賀蘭山位於寧夏回族自治區與\_\_\_\_\_的交界處，在古代是匈奴、鮮卑、回鶻、黨項等少數民族避牧狩獵、生活衍習的地方，之後黨項族以賀蘭山下的銀川平原為基地，並建立了西夏王朝 ◎(C)

- A.甘肅
- B.青海
- C.內蒙古自治區

297.下圖所示為位於寧夏回族自治區的\_\_\_\_\_，其分布範圍北至石嘴山市，南至中衛市。題材以人面像和游牧生活為主，其中還有部分西夏文。(C)



- A.莫高窟壁畫
- B.甲骨文
- C.賀蘭山岩畫

298.新疆維吾爾自治區喀納斯自然景觀保護區風景極美，於2009年被《中國國家地理》雜誌評為中國最美\_\_\_\_\_。(B)

- A.森林
- B.湖泊
- C.沙漠

299.新疆維吾爾自治區首府烏魯木齊市的舊稱為「迪化」，是清乾隆帝所定的「啟迪教化」之意。據說，「烏魯木齊」一詞在蒙古語中的意思是？(A)

- A.美麗的牧場
- B.寬廣的牧場
- C.溫暖的太陽


300.新疆克拉瑪依市是國家重要的石油石化基地，它的城市名稱與其產業息息相關，「克拉瑪依」在維吾爾語中是指？(C)

- A.魔鬼城
- B.瑰麗的寶地
- C.黑色的油

301. \_\_\_\_\_位於新疆南疆的塔里木盆地中心，是中國最大的沙漠，也是世界第十大沙漠。(C)

- A.古爾班通古特沙漠
- B.巴丹吉林沙漠
- C.塔克拉瑪干沙漠

302.賽里木湖，古稱「淨海」，位於中國新疆維吾爾自治區博爾塔拉蒙古自治州博樂市境內的北天山山脈中。它是新疆海拔最高、面積最大的\_\_\_\_\_。(C)



- A.人工湖
- B.冰川湖
- C.高山冷水湖

303.「三山夾兩盆」是指位於新疆維吾爾自治區內的一個特殊地形，山脈與盆地相間排列，盆地被高山環抱。「三山」是指阿爾泰山、昆崙山、天山山脈，「兩盆」指的是？(A)

- A.準噶爾盆地和塔里木盆地
- B.準噶爾盆地和柴達木盆地
- C.柴達木盆地和塔里木盆地

304.全國最大的薰衣草基地，並且是世界薰衣草八大知名產地之一的地方位於：(C)

- A.雲南昆明
- B.江蘇南京
- C.新疆

305.中國唯一一條流入北冰洋的河流是發源於新疆阿爾泰山南坡的\_\_\_\_\_。(A)

- A.額爾齊斯河
- B.伊犁河
- C.額爾古納河

306.中國西北的吐魯番盆地，由於地形閉塞，海拔低，熱氣流不易外流，夏季異常乾熱，被稱為中國的「熱極」。《西遊記》中的故事場景\_\_\_\_\_便取自於此。

- (C)
- A.五指山
- B.獅駝嶺
- C.火焰山

307.中國古代二十六名關之一，曾是南北疆交通的天險要衝，古代「絲綢之路」中道咽喉，西漢張騫出使西域曾路經此關。它就是位於新疆庫爾勒市北郊的：(C)

- A.北關
- B.嘉峪關

C.鐵門關

308.下列哪個不是澳門的別名？(C)

A.濠鏡

B.鏡海

C.香江

309.澳門於哪一年回歸祖國？(C)

A.1996 年

B.1997 年

C.1999 年

310.以下哪一個不是澳門特別行政區區徽中的圖案？(B)

A.五星

B.太陽

C.大橋

311.「澳門歷史城區」於哪一年被列入世界文化遺產名錄，成為中國第31處世界遺產？(C)

A.1999 年

B.2001 年

C.2005 年

312.下圖被列為澳門世界遺產的鄭家大屋，中國近代哪位名人在此撰寫了《盛世危言》一書？(B)



A.鄭成功

B.鄭觀應

C.鄭振鐸

313.「龍環」為以下哪一個地方的舊稱？(B)

A.路環

B.氹仔

C.福隆新街

314.澳門著名街道「新馬路」的正式名稱是？(A)



A.亞美打利庇盧大馬路

B.肥利喇亞美打大馬路

C.士多鳥拜斯大馬路

315.下列哪一座大橋並非連接澳門半島和氹仔島的跨海大橋？(C)

A.西灣大橋

B.嘉樂庇總督大橋

C.蓮花大橋

316.世界聞名的聖保祿教堂遺址，澳門本地人將之稱為：(A)

A.大三巴牌坊

B.聖老楞佐教堂

C.舊城牆遺址

317.以下哪一項不屬於「澳門歷史城區」的 22 座建築？(C)

A.民政總署大樓

B.何東圖書館大樓

C.陸軍俱樂部大樓

318.1624 年，荷蘭殖民者侵佔台灣，直到哪一年被鄭成功收復？(C)

A.1660 年

B.1661 年

C.1662 年

319.在潮州古城內，牌坊街是一條充滿故事與傳奇的老街。那麼，牌坊街上的牌坊主要有哪些作用？(A)



A.表彰功績

B.擺賣商品

C.娛樂消遣

320.哪種藝術形式是發源於台灣的獨特民間藝術？(B)

A.京劇

B.歌仔戲

C.越劇

321.清朝時期，清廷將台灣納入版圖後，設立台灣府，隸屬\_\_\_\_省。(B)

A.廣東

B.福建

C.浙江

322.1895年，清政府被迫簽訂《馬關條約》，將台灣及澎湖列島割讓給\_\_\_\_\_。

(C)

A.英國

B.法國

C.日本

323.\_\_\_\_\_科學園區是台灣的第一座科學園區，園區內廠商以積體電路產業為主，為全球半導體業的主要科技重鎮之一，亦有「台灣矽谷」之稱。(C)

A.台中

B.桃園

C.新竹

324.太陽餅，是一種甜餡薄餅，源起於台灣\_\_\_\_\_市，形狀近似圓形，餅皮酥而易碎，一般以麥芽糖為內餡，可作為搭配濃茶之茶點。(B)



A.台北

B.台中

C.台南

325.\_\_\_\_\_作為台灣第一任巡撫，成功地在台灣推行了改革，被譽為台灣近代化的奠基人、台灣近代化之父、工業化的先驅。(B)

A.沈葆楨

B.劉銘傳

C.丁日昌

326.台灣是多元族群融合的社會，除了原本各族群的固有信仰以外，漢人移族方面包含了許多不同的省籍族群，他們帶來了原鄉的信仰，這些神祇稱為鄉土神。其中，被尊為「開漳聖王」的是\_\_\_\_\_。(C)

A.顏思齊

B.鄭成功

C.陳元光

327.台灣民間在春節期間有「圍爐」的習俗，圍爐時桌上一定會有一道菜是魚，寓意\_\_\_\_\_。(B)

A.富貴吉祥

B.年年有餘

C.團圓美滿

328.以下哪一個不是香港非物質文化遺產（非遺）的類別？(C)

A.表演藝術

B.社會實踐、儀式、節慶活動

C.古建築群

329.「長洲太平清醮」屬哪一個非遺類別？(C)

A.口頭傳統和表現形式

B.表演藝術

C.社會實踐、儀式、節慶活動

330.「全真道堂科儀」屬哪一個非遺類別？(B)

A.口頭傳統和表現形式

B.表演藝術

C.社會實踐、儀式、節慶活動

331.香港非物質文化遺產中心位於哪一間博物館內？(A)

A.三棟屋博物館

B.香港文化博物館

C.香港歷史博物館

332.以下哪些食物的製作技藝不是非物質文化遺產清單的項目？(A)

A.雞尾包製作技藝

B.菠蘿包製作技藝

C.蛋撻製作技藝

333.古時傳統曆法和二十四節氣載於「曆書」供百姓參考。「曆書」又名「通書」，廣東民間將「通書」改稱為什麼？(C)

A.通文

B.通曆

C.通勝

334. 下圖是廣東省一處文化遺產建築，也是知名電影《讓子彈飛》的取景地，請問它的名稱是？(B)



A.圍屋

B.碉樓

C.別墅

335.鑼鼓櫃主要是擺放甚麼類型的樂器？(C)

A.彈撥樂器

B.吹管樂器

C.敲擊樂器

336.用來製作灰水糶的灰水是由荔枝、龍眼等果樹\_\_\_\_\_燒成白灰，然後加水過濾製成。(B)

A.樹皮

B.樹枝

C.樹根

337.盆菜的製作步驟繁複。由師傅逐一把食物烹煮調味，稱為「煮盆」。然後，師傅和幫工把各款食物按序一層一層放進盆內疊好，此步驟稱為什麼？(C)



A.砌盆

B.疊盆

C.打盆

338.長征開始於哪一年？(B)

A.1933 年

B.1934 年

C.1935 年

339.長征被收錄在哪本出版物的「人類 1000 年」重大事件中？(A)

A.美國時代生活出版公司

B.英國牛津百科全書

C.中國歷史年鑒

340.1934年1月，中共臨時中央在哪裡召開六屆五中全會？(B)

A.延安

B.瑞金

C.遵義

341.第五次反「圍剿」中，規模最大、影響最大的戰役是？(A)

A.廣昌戰役

B.湘江戰役

C.遵義戰役

342.廣昌戰役中，紅軍傷亡多少人？(B)

A.約3000人

B.約5000人

C.約10000人

343.廣昌戰役的慘敗，宣告了誰的戰法徹底破產？(B)

A.毛澤東

B.李德

C.周恩來

344.1934年5月，中央書記處決定放棄中央蘇區，進行什麼？(B)

A.繼續堅守

B.大規模軍事轉移

C.與國民黨和談

345.1934年10月10日，中革軍委發布命令，組成「軍委第一縱隊」，其司令員兼政委是誰？(C)

第十六屆全港學生中國國情知識大賽暨第五屆中國文化和旅遊知識競賽

A.李維漢

B.彭德懷

C.葉劍英

346. 中央紅軍參加戰略轉移的主力部隊總人數約為？(B)

A.5.6 萬餘人

B.8.6 萬餘人

C.10.6 萬餘人

347. 留下來堅持鬥爭的領導機關叫什麼？(B)

A. 中央留守處

B. 中央分局

C. 南方游擊隊

348. 中央紅軍長征突破的第一道封鎖線位於哪裡？(C)

A. 湘南汝城、粵北仁化之間

B. 桂北全州、興安之間

C. 贛南安遠、信豐之間

349. 中央紅軍長征突破的第二道封鎖線位於哪裡？(A)

A. 湘南汝城、粵北仁化之間

B. 湘南良田、宜章之間

C. 桂北全州、興安之間

350. 中央紅軍長征突破的第三道封鎖線位於哪裡？(B)

A. 湘南汝城、粵北仁化之間

B. 湘南良田、宜章之間

C. 桂北全州、興安之間

351. 湘江戰役中，國民黨軍隊的「追剿軍」總司令是誰？(B)

第十六屆全港學生中國國情知識大賽暨第五屆中國文化和旅遊知識競賽

A.薛岳

B.何鍵

C.蔣介石

352.湘江戰役中，紅一軍團第二師在哪裡構築第一道阻擊陣地？(C)

A.新圩

B.界首

C.覺山鋪

353.紅三軍團第五師奉命在哪裡構築阻擊陣地，以阻擋桂軍？(A)

A.新圩

B.界首

C.覺山鋪

354.湘江戰役後，中央紅軍由出發時的 8.6 萬人銳減到約多少人？(B)

A.5 萬餘人

B.3 萬餘人

C.2 萬餘人

355.1934 年 7 月 6 日，哪支隊伍組成「中國工農紅軍北上抗日先遣隊」？(B)

A.紅六軍團

B.紅七軍團

C.紅十軍團

356.紅六軍團與賀龍領導的紅三軍在哪裡會師？(B)

A.四川省酉陽縣南腰界

B.貴州省印江縣的木黃

C.湖南省中部

357.紅 25 軍西征後，於 1935 年 9 月 15 日到達哪裡，與劉志丹領導的紅軍會合？

(A)

- A. 陝西省延川縣永坪鎮
- B. 甘肅省會寧縣
- C. 寧夏省同心縣

358. 東北人民革命軍第一軍正式成立時，軍長兼政委是誰？(B)

- A. 趙尚志
- B. 楊靖宇
- C. 周保中

359. 1934年12月12日，中央領導人召開什麼會議，討論紅軍行動方向？(B)

- A. 黎平會議
- B. 通道會議
- C. 猴場會議

360. 通道會議上，毛澤東力主紅軍向哪裡進軍？(B)

- A. 湖南西部
- B. 貴州
- C. 四川

361. 1934年12月18日，中央政治局召開什麼會議，決定放棄與紅二、紅六軍團會合？(A)

- A. 黎平會議
- B. 通道會議
- C. 猴場會議

362. 黎平會議提出新的根據地最初應以哪裡為中心？(A)

- A. 遵義
- B. 川黔邊區

C.延安

363.1934 年最後一天，中央政治局召開什麼會議，實際上取消了李德的軍事指揮權？(C)

A.黎平會議

B.通道會議

C.猴場會議

364.遵義會議確立了以誰為主要代表的馬克思主義正確路線在中共中央的領導地位？(B)

A.周恩來

B.毛澤東

C.張聞天

365.長征途中，紅軍部隊總共進行了多少次主要的會師？(B)

A.6 次

B.8 次

C.10 次

366.紅 6 軍團於何時在貴州印江縣木黃與紅 3 軍會師？(B)

A.24/9/1934

B.24/10/1934

C.24/11/1934

367.紅 6 軍團西征作為中央紅軍長征的先遣隊，其領導人不包括以下哪一位？(B)

A.任弼時

B.賀龍

C.蕭克

368.木黃會師後，兩軍團共同開闢了哪個根據地？(B)

A.湘鄂贛根據地

B.湘鄂川黔根據地

C.川陝甘根據地

369.1934年7月6日，從瑞金出發的北上抗日先遣隊是由哪支部隊組成？(B)

A.紅6軍團

B.紅7軍團

C.紅10軍團

370.北上抗日先遣隊公開打出旗號的地點是？(A)

A.福建古田水口鎮

B.江西葛源重溪

C.皖贛邊界

371.紅7軍團在江西葛源以北的重溪與哪支紅軍部隊會合？(B)

A.紅8軍

B.紅10軍

C.紅12軍

372.紅10軍團編成後，哪個師被留在閩浙贛蘇區堅持鬥爭？(B)

A.第19師

B.第20、第21師

C.全部主力

373.中央紅軍（紅一方面軍）與紅四方面軍於何時在四川懋功（今小金縣）地區會師？(B)

A.1/5/1935

B.1/6/1935

C.1/7/1935

374.中央紅軍在前往懋功途中翻越了哪座終年積雪的大山？(B)

第十六屆全港學生中國國情知識大賽暨第五屆中國文化和旅遊知識競賽

A.大雪山

B.夾金山

C.岷山

375.懋功會師使多少主力紅軍聚集在一起？(B)

A.約 5 萬人

B.約 10 萬人

C.約 15 萬人

376.紅 25 軍長征勝利結束，於何時在延川縣永坪鎮與西北紅軍會師？(B)

A.16/7/1935

B.16/9/1935

C.16/11/1935

377.永坪會師後，紅 25 軍與紅 26、27 軍合編為什麼軍團？(C)

A.紅軍第 13 軍團

B.紅軍第 14 軍團

C.紅軍第 15 軍團

378.紅 15 軍團的副團長兼參謀長是誰？(C)

A.徐海東

B.程子華

C.劉志丹

379.紅一方面軍主力長征勝利結束的標誌是到達何地？(B)

A.甘肅哈達鋪

B.陝西吳起鎮

C.甘肅會寧城

380.打破國民黨軍對陝甘蘇區第三次「圍剿」的關鍵戰役是？(B)

A.臘子口戰役

B.直羅鎮戰役

C.山城堡戰役

381.紅 6 軍團在四川理化以南的甲洼地區，與紅四方面軍哪支部隊會合？(C)

A.第 30 軍一部

B.第 31 軍一部

C.第 32 軍一部

382.1936 年 7 月 2 日，紅 2、紅 6 軍團與紅四方面軍在何地舉行會師慶祝大會？

(A)

A.甘孜

B.懋功

C.會寧

383.1936 年 10 月 2 日，紅一方面軍哪支部隊一舉攻克會寧城？(B)

A.紅 1 軍團直屬隊

B.紅 15 軍團直屬騎兵團

C.陝甘支隊先遣隊

384.紅一、紅四方面軍在會寧縣城的何處舉行慶祝會師聯歡大會？(B)

A.城樓上

B.文廟大成殿

C.中心廣場

385.紅軍長征中的最後一次會師是？(C)

A.懋功會師

B.會寧會師

C.將台堡會師

386.將台堡會師發生在哪個省份？(B)

- A.甘肅省
- B.寧夏省
- C.陝西省

387.三大主力紅軍勝利會師，宣告了什麼的徹底破產？(B)

- A.第五次「圍剿」
- B.國民黨反動派聚殲紅軍的陰謀
- C.日本侵華計劃

388.紅軍長征的直接原因是第幾次反「圍剿」戰爭的失敗？

- A.第三次
- B.第四次
- C.第五次

389.1934年，為準備戰略轉移，中共中央和中革軍委成立了負責籌劃的最高「三人團」，其成員不包括以下哪位

- A.博古
- B.李德
- C.毛澤東

390.為配合中央紅軍戰略轉移，最早奉命先行出發、帶有探路性質的是哪支部隊？(B)

- A.紅七軍團（北上抗日先遣隊）
- B.紅六軍團
- C.紅二十五軍

391.長征前，中央紅軍與哪支地方軍閥部隊達成了秘密的「和平談判」，為早期突圍創造了條件？(B)

- A.湘軍何鍵部

B. 粵軍陳濟棠部

C. 桂軍李宗仁部

392. 中央紅軍主力開始長征的出發時間是？(B)

A. 1/8/1934

B. 1/10/1934

C. 1/1/1935

393. 長征初期，中央紅軍突破的第一道封鎖線位於哪個區域？(B)

A. 湘南汝城、粵北仁化之間

B. 贛南安遠、信豐之間

C. 桂北全州、興安之間

394. 長征途中最為慘烈、使中央紅軍兵力銳減過半的一戰是？(B)

A. 強渡大渡河

B. 湘江戰役

C. 四渡赤水

395. 在湘江戰役中，負責後衛任務、最終壯烈犧牲的部隊是？(A)

A. 紅五軍團 34 師

B. 紅三軍團 4 師

C. 紅一軍團 2 師

396. 長征途中，標誌着中國共產黨歷史上生死攸關轉折點的會議是？(B)

A. 俄界會議

B. 遵義會議

C. 瓦窯堡會議

397. 遵義會議主要解決了什麼問題？(C)

A. 土地革命政策

B.抗日民族統一戰線策略

C.軍事路線和組織領導問題

398.遵義會議後，負責指揮紅軍軍事行動的新「三人軍事指揮小組」由誰組成？

(A)

A.毛澤東、周恩來、王稼祥

B.毛澤東、張聞天、王稼祥

C.周恩來、朱德、王稼祥

399.毛澤東在哪篇著名報告中，將長征比喻為「宣言書、宣傳隊、播種機」？(B)

A.《論持久戰》

B.《論反對日本帝國主義的策略》

C.《實踐論》

400.1935年5月，中央紅軍主力憑借36名船工9天9夜不停擺渡，擺脫追兵渡過的河流是？(A)

A.大渡河

B.金沙江

C.烏江

401.「飛奪瀘定橋」戰鬥中，由22名勇士組成的突擊隊主要來自哪個部隊？(A)

A.紅軍第一方面軍紅四團

B.紅軍第三方面軍紅五團

C.紅軍第二方面軍紅六團

402.紅軍長征中翻越了約多少座高山險峰？(B)

A.約20座

B.約40座

C.約60座

403.除了三大主力紅軍，同樣參加了長征的部隊還有？(B)

A.紅十五軍

B.紅二十五軍

C.紅二十七軍

404.紅二十五軍在進入寧夏回族聚居區時，為尊重少數民族習俗制定了專門紀律，其政委是？(C)

A.徐海東

B.程子華

C.吳煥先

405.1936年10月，紅二方面軍與紅一方面軍會師的地點是在？(B)

A.甘肅會寧

B.寧夏將台堡（今屬西吉）

C.四川懋功

406.標誌着紅軍長征勝利結束的事件是？(C)

A.中央紅軍到達陝北吳起鎮

B.紅一、四方面軍在四川懋功會師

C.三大主力紅軍在甘肅會寧和寧夏將台堡會師

407.目前發現最早使用「長征」一詞的文獻是1935年2月紅軍總政治部在哪裡發布的布告？(B)

A.江西

B.貴州

C.四川

408.「紅軍萬里長征，所向勢如破竹」這一著名語句，出自1935年5月以誰的名義發布的布告？(B)

A.毛澤東

B.朱德

C.周恩來

409.最早向世界詳細介紹紅軍長征和中共領導人的紀實作品《隨軍西行見聞錄》的作者是？(B)

A.埃德加·斯諾

B.陳雲

C.陸定一

410.長征中堅持出版的唯一中央級報紙是？(B)

A.《戰士》報

B.《紅星》報

C.《前進報》

411.長征中，《紅星》報的主要作用被比喻為什麼？(B)

A.一把尖刀

B.一架大無線電台

C.一面旗幟

412.紅軍在長征途中創造了一種寫在樹葉上傳遞信息的宣傳形式，被稱為？(A)

A.葉報

B.板報

C.水電報

413.為打破國民黨的新聞封鎖，中國共產黨早期在海外宣傳長征真相的重要陣地是？(C)

A.共產國際

B.美國記者團體

C.東南亞華文報刊

414.長征出發前，蘇區群眾為支持紅軍籌集軍需而發起的運動不包括？(B)

A.借谷運動

第十六屆全港學生中國國情知識大賽暨第五屆中國文化和旅遊知識競賽

B.大生產運動

C.節省運動

415.長征途中，紅軍模範執行群眾紀律，用實際行動贏得民心，這體現了長征精神的哪個方面？(C)

A.堅定理想、百折不撓

B.緊密團結、顧全大局

C.依靠人民、患難與共

416.被概括為毛澤東思想活的靈魂，也是長征留給我們的寶貴經驗不包括以下哪項？(C)

A.實事求是

B.群眾路線

C.快速發展

417.美國時代生活出版公司《人類 1000 年》一書中，將長征列為過去一千年影響人類歷史的重大事件之一，長征發生的核心世紀是？(C)

A.18 世紀

B.19 世紀

C.20 世紀

418.習近平總書記指出，長征是一次檢驗真理的偉大遠征，它使中國共產黨迅速接近和接受的真理核心是什麼？(B)

A.必須堅持城市中心暴動

B.必須把馬克思主義基本原理同中國革命具體實際結合

C.必須完全服從共產國際的指揮

419.「長征是歷史紀錄上的第一次，長征是宣言書，長征是宣傳隊，長征是播種機。」這一著名論斷強調了長征的什麼意義？(B)

A.軍事戰術意義

B.政治和精神意義

C.外交意義

420.紅軍長征縱橫跨越了約多少個省份（按當時行政區劃分）？(B)

A.11 個

B.14 個

C.18 個

421.長征途中，犧牲的營以上幹部大約有多少人？(B)

A.約 230 人

B.約 430 人

C.約 630 人

422.遵義會議後，中央紅軍在毛澤東指揮下，取得了哪場關鍵戰役的勝利，證明了新軍事路線的正確性？(A)

A.突破烏江

B.強渡大渡河、飛奪瀘定橋

C.包圍戰役

423.1935 年6 月，中央紅軍與紅四方面軍會師後，關於戰略方向產生了分歧，毛澤東力主的方向是？(B)

A.南下川康邊境

B.北上陝甘

C.西進新疆

424.毛澤東同志在 1964 年曾談到《毛澤東選集》是「血的著作」，這強調了革命真理來源於什麼？(B)

A.經典理論著作

B.殘酷而嚴格的革命實踐

C.天才的頭腦創造

425.紅軍長征前，為籌集資金，蘇區婦女發起了什麼運動，捐出首飾支持革命？

(A)

A.剪髮運動

B.放足運動

C.識字運動

426.長征出發前，確定幹部去留名單的原則是高度保密，其中誰走誰留主要由誰決定？(C)

A.由各部門負責人決定

B.由「三人團」中的周恩來決定

C.由博古等人親自確定

427.下圖是堅持南方游擊戰的領導人之一，請問被留下來堅持鬥爭的領導人中，不包括以下哪位？(C)



A.項英

B.陳毅

C.彭德懷

428.1935年8月，毛澤東、楊尚昆為哪本書向部隊發起徵稿，旨在擴大紅軍國際影響？(B)

A.《西行漫記》

B.《紅軍長征記》

C.《中國的紅星》

429.紅二十五軍長征出發時打出的旗幟上寫的內容是？(B)

A.中國工農紅軍北上抗日先遣隊

B.中國紅軍北上抗日第二先遣隊

C.北上抗日救國軍

430.長征中，紅軍總政治部曾指示要成立專門的宣傳隊伍書寫標語，這些隊伍包括？(C)

A.粉筆隊

B.鑿刻隊

C.話劇隊

431.在關於長征的經典論述中，與「長征是宣言書，長征是宣傳隊，長征是播種機」並列的結論是？(B)

A.長征是勝利的凱歌

B.長征以我們勝利、敵人失敗而告結束

C.長征是偉大的戰略轉移

432.黨史文獻指出，我們黨在長征中被迫與共產國際中斷聯繫，這在客觀上帶來了什麼積極影響？(B)

A.獲得了更多軍事援助

B.被迫獨自解決中國革命問題

C.避開了錯誤指示的干擾

433.長征精神的內涵十分豐富，其中「堅持獨立自主、實事求是，一切從實際出發的精神」與哪個歷史事件的確立直接相關？(B)

A.井岡山會師

B.遵義會議

C.西安事變和平解決

434.紅軍長征初期，為突破國民黨軍防線進行的第一個關鍵戰役是？(B)

- A.飛奪瀘定橋
- B.血戰湘江
- C.四渡赤水

435.紅軍長征過草地時，為解決食鹽短缺，有時會用一種當地產的礦物鹽代替，這種鹽主要取自？(A)

- A.岩鹽
- B.湖鹽
- C.井鹽

436.紅軍在長征途中創建的《紅星報》，其主編最初是：

- A.鄧小平
- B.陸定一
- C.瞿秋白

437.紅軍經過彝區時，規定不准觸碰彝族同胞頭上的什麼物品，以示尊重？(C)

- A.帽子
- B.頭帕
- C.英雄結

438.長征途中，紅軍戰士休息時常玩的一種自製棋盤遊戲是？(C)

- A.象棋
- B.圍棋
- C.褲襠棋

439.紅軍在雪山地區行軍，因號聲傳播距離有限，聯絡時常採用什麼方式？(A)

- A.旗語
- B.火光

C.哨子

440.遵義會議後，中央紅軍決定北渡長江，到四川與哪支紅軍主力會師？(B)

A.紅二方面軍

B.紅四方面軍

C.紅二十五軍

441.紅軍經過雲南時，廣泛宣傳「紅軍是幹人的隊伍」，其中「幹人」指的是

(A)

A.窮人

B.病人

C.手藝人

442.紅軍醫生在缺乏止血帶時，會用什麼臨時替代

A.布條（布條或綁腿布）

B.草繩（新鮮樹葉）

C.頭髮（金屬絲）

443.長征中，紅軍編寫的《識字課本》第一課內容通常是？(A)

A.紅軍

B.革命

C.土地

444.紅軍在藏區發布的布告《告康藏西番族民眾書》是用哪種文字書寫的？(C)

A.漢文

B.藏文

C.漢藏雙語

445.紅軍在長征路上書寫標語，使用最普遍的顏料是？(B)

A.墨汁

B.石灰水

C.紅土

446.紅軍在臘子口戰役中，為摧毀敵軍碉堡，使用了哪種武器？(A)

A.手榴彈

B.炸藥包

C.追擊炮

447.紅軍離開駐地時，要求「捆鋪草、上門板」，其中「上門板」是為( B)

A.防雨

B.復原

C.防盜

448.紅軍醫生用的一種簡易夾板固定骨折傷患，常用什麼材料製作？(A)

A.樹枝

B.扁擔

C.槍托

449.紅軍劇團在慰問演出時經常表演的一種活報劇叫做？(B)

A.文明戲

B.街頭劇

C.化裝宣講

450.中央紅軍長征初期，為突破敵軍封鎖線，連續通過了多少道封鎖線？(A)

A.三道

B.四道

C.五道

451.紅軍經過苗區時，尊重當地「議榔」制度，「議榔」指的是？(B)

A.祭祀活動

B. 民間法規

C. 部落首領

452. 紅軍在長征中使用的電臺，其電源最初靠什麼發電？(A)

A. 手搖發電機

B. 蓄電池

C. 柴油機

453. 紅軍在嘉陵江戰役中，為隱蔽企圖，主要選擇在什麼時間渡江？(C)

A. 拂曉

B. 黃昏

C. 夜晚

454. 紅軍在新區宣傳時，常用的一個形象比喻「紅軍是種子」，意思是？(B)

A. 生命力強

B. 傳播革命

C. 需要土地

455. 紅軍書寫的標語「紅軍不拉夫」，其中「拉夫」指的是？(A)

A. 不強迫群眾為軍隊幹活

B. 不向老百姓攤派糧餉

C. 不拿群眾任何財物

456. 紅軍炊事班為在行軍中快速做飯，發明了一種「口袋灶」，其主要特點是？

A. 挖地灶（三面壘砌、一面開口，形似口袋，可聚熱防風且隱蔽性強）

B. 壘石灶（可折疊收納，重量輕便，但火力分散）

C. 隨處可挖（採用多層金屬結構，散熱慢且造價高）

457. 毛澤東用「打得贏就打，打不贏就走」概括的戰術原則是？(A)

A.運動戰（游擊戰與運動戰相結合的核心原則）

B.游擊戰（陣地戰的防禦反擊原則）

C.陣地戰（持久戰的戰略消耗原則）

458.紅軍借住群眾家裏，臨走時要「水滿缸」，目的是？(B)

A.表示感謝

B.方便群眾

C.防止火災

459.紅軍衛生員會用一種植物的根煮水治療痢疾，這種植物是？(A)

A.黃連

B.魚腥草

C.車前草

460.紅軍過草地時，為解決燒柴問題，主要依靠什麼？(A)

A.牛糞

B.草根

C.灌木

461.通道會議是長征中一次重要會議，其主要內容是？(A)

A.轉兵貴州

B.北上抗日

C.批判錯誤

462.紅軍提出的「三大紀律八項注意」中，「八項注意」第一條是？(A)

A.說話和氣

B.買賣公平

C.借東西要還

463.紅軍醫生會用煮沸的什麼水清洗傷口，起到消炎作用？(A)

第十六屆全港學生中國國情知識大賽暨第五屆中國文化和旅遊知識競賽

- A. 鹽水
- B. 茶水
- C. 石灰水

464. 紅軍書寫的標語「只有蘇維埃才能救中國」，其中「蘇維埃」指的是？(C)

- A. 蘇聯
- B. 代表大會
- C. 工農民主政權

465. 紅軍在極端困難時，曾用什麼東西代替食鹽？(A)

- A. 硝鹽
- B. 醋
- C. 辣椒

466. 紅軍規定「不損壞莊稼」，在果園宿營時，即使果子成熟落地，也要求做到？(C)

- A. 可以撿食
- B. 集中上交
- C. 不准拾取

467. 紅軍醫院缺乏紗布時，會用什麼東西代替？(C)

- A. 草紙
- B. 樹葉
- C. 土布

468. 紅軍宣傳隊創作了一首著名歌曲《三大紀律八項注意》，其曲調來源於？(B)

- A. 民歌（中國傳統民間歌曲）
- B. 軍歌（19世紀歐洲軍歌）
- C. 學堂樂歌（清末民初新式學堂的教科書歌曲）

469.紅軍經過羌族地區時，尊重當地習俗，不進入什麼地方？(C)

- A.碉樓
- B.神廟
- C.神樹林

470.紅軍過雪山時，為防滑，戰士們有時在草鞋上綁什麼？(A)

- A.草繩
- B.鐵釘
- C.粗布條

471.俄界會議批判了張國燾的錯誤，決定將紅軍改編為？(B)

- A.抗日先遣隊
- B.陝甘支隊
- C.北上先遣隊

472.紅軍提出的「打土豪、分田地」口號中，「土豪」指的是？(A)

- A.地主
- B.惡霸
- C.富戶

473.紅軍書寫的標語「紅軍是窮人的隊伍」，其中「窮人」在當地方言中又稱？

- (A)
- A.幹人
- B.苦人
- C.下人

474.紅軍在藏區籌糧，主要購買的是什麼糧食？(A)

- A.青稞
- B.小麥

第十六屆全港學生中國國情知識大賽暨第五屆中國文化和旅遊知識競賽

C.玉米

475.紅軍總結的「十六字訣」遊擊戰術，其核心是？(A)

A.敵進我退

B.集中兵力

C.速戰速決

476.紅軍規定「洗澡避女人」，體現了什麼原則？(A)

A.尊重婦女

B.軍事保密

C.衛生要求

477.紅軍宣傳隊表演的活報劇《亡國恨》，主要內容是？(B)

A.階級壓迫

B.抗日救國

C.土地革命

478.紅軍在回民區規定的「三大禁令」中，不包括以下哪項？(C)

A.禁止入清真寺

B.禁止吃豬肉

C.禁止宣傳

479.下圖是紅軍過草地時的場景，為解決飲水問題，有時直接飲用什麼水？(A)



A.雨水

B.河水

C.沼澤水

480.兩河口會議確定了什麼方針？(A)

A.北上抗日

B.南下川康

C.建立根據地

481.紅軍幫助群眾幹活時，經常唱的一首歌是？(B)

A.《十送紅軍》

B.《軍民大生產》

C.《二月裏來》

482.下圖是紅軍衛生員常用的一種植物，用其根煮水治療感冒，它是？(C)



A.生薑

B.蔥白

C.柴胡

483.紅軍書寫的標語「紅軍公買公賣」，主要針對的是什麼問題？(C)

A.市場秩序

B.商業公平

C.群眾紀律

484. 下圖是紅軍在極端困難時用來代替火柴的工具，它是？(A)



- A. 火鑷
- B. 放大鏡
- C. 鑽木取火

485. 紅軍總結的「打得贏就打，打不贏就走」體現了什麼戰術思想？(A)

- A. 靈活性
- B. 主動性
- C. 計劃性

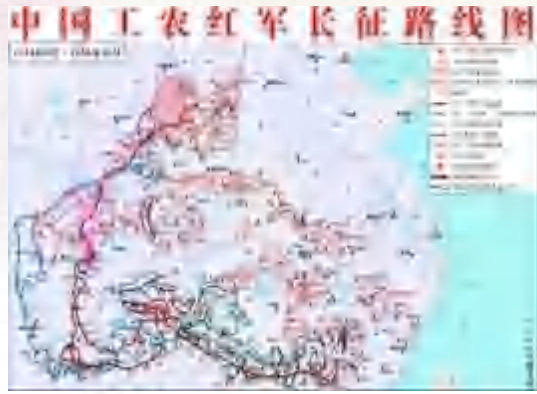
486. 紅軍宣傳隊表演的《紅星舞》，其主要道具是？(A)

- A. 紅星
- B. 鐮刀斧頭
- C. 紅旗

487. 紅軍在藏區規定的「不准亂打神鷹」，主要原因是？(B)

- A. 保護動物
- B. 尊重信仰
- C. 維持生態

488. 下圖是紅軍長征路線圖，長征一共經過了幾個省份？(C)



- A. 12 個
- B. 13 個
- C. 14 個

489. 下圖是紅軍長征中的一場著名戰役，請問以下哪一場戰役不屬於長征中的著名戰役？(B)



- A. 湘江戰役
- B. 淮海戰役
- C. 嘉陵江戰役

490. 下圖是赤水河，它是\_\_\_\_\_的支流。(A)



- A. 長江
- B. 黃河
- C. 金沙江

491. 下圖是參與紅軍長征的主要領導人之一，有一位並非出生於中國本土的外籍人士，他是：(C)



- A. 蕭克
- B. 博古
- C. 李德

492. 下圖所示是貴州遵義的著名特產，被稱為中國國酒，它是：(A)



- A. 茅台酒
- B. 董酒
- C. 鴨溪窖酒

493. 下圖是紅軍長征經過的客家地區，客家人常在什麼建築中聚族而居？(A)



- A. 圍屋
- B. 窯洞
- C. 四合院

494. 下圖是一位美國新聞記者，他曾採訪毛澤東與紅軍，並在《紅星照耀中國》中將長征評價為「史詩般的遠征」。這位記者是：(B)



- A. 艾格尼絲·史沫特萊
- B. 埃德加·斯諾
- C. 安娜·路易斯·斯特朗

495. 下圖是紅軍長征勝利後，中共中央長期駐紮並成為「革命聖地」的地方，其標誌性建築景觀是：(C)



- A. 保安，土堡
- B. 吳起鎮，窯洞
- C. 延安，窯洞

496. 下圖是紅軍三大主力會師的地點，標誌着長征勝利結束。這是哪裡？(B)



A. 吳起鎮

B. 會寧

C. 延安

497. 下圖是紅軍「強渡烏江」行動中的烏江，它是哪個省的第一大河？(B)



A. 雲南省

B. 貴州省

C. 四川省

498. 下圖是唐代始建的世界最大石刻佛像，它是：(A)



- A. 樂山大佛
- B. 龍門石窟大佛
- C. 雲岡石窟大佛

499. 下圖為瀘定橋，紅軍到達前，敵人已將木板拆除，只剩下 13 根鐵鏈橫在大渡河上。請問這場著名的「飛奪瀘定橋」戰鬥發生在哪一條河流之上？(B)



- A. 烏江
- B. 大渡河
- C. 赤水河

500. 我國著名領導人\_\_\_\_\_在紅軍長征勝利到達陝北後指出：「長征是宣言書，長征是宣傳隊，長征是播種機。長征是以我們勝利、敵人失敗而告終。」(C)

- A. 周恩來
- B. 朱德
- C. 毛澤東

501. 下圖為中國工農紅軍的番號旗幟。在紅軍長征的歷史中，以下哪個部隊名稱

是未曾涉及的？(A)



- A. 紅三方面軍
- B. 紅四方面軍
- C. 中央紅軍

502. \_\_\_\_\_是紅軍長征途中在甘肅境內召開的第一次重要會議，會議討論了北上任務與到達甘南後的方針，作出了《關於張國燾同志的錯誤決定》。(C)

- A. 遵義會議
- B. 兩河口會議
- C. 俄界會議

503. 遵義會議的召開地點遵義是貴州的省轄地級市，地處中國西南地區，所屬的氣候類型是：(A)

- A. 亞熱帶季風性濕潤氣候
- B. 溫帶季風氣候
- C. 溫帶大陸性氣候

504. 下圖為遵義會議會址的現貌，其具體位置位於今貴州省遵義市的哪個歷史街區？(B)



- A. 甲秀樓
- B. 子尹路
- C. 鎮遠古城

505. 下圖為紅軍長征出發點瑞金的自然風光。瑞金地處哪座山脈的西麓？(A)



- A. 武夷山脈
- B. 烏蒙山脈
- C. 武陵山脈

506. 紅軍長征途經四川冕寧的少數民族聚居區時，劉伯承與當地果基家支首領小葉丹殺雞飲血、結為兄弟。這一事件被譽為民族團結的典範，史稱：(A)

- A. 彝海結盟
- B. 冕寧會盟
- C. 大涼山盟誓

507. 下圖是朱德元帥的故鄉——四川省儀隴縣的一項傳統藝術作品。這項主要技法包括陰陽套刻法等藝術形式是：(A)



- A. 剪紙

B.木塑

C.年畫

508.遵義會議後，中共中央成立的負責軍事指揮的「新三人團」由哪三人組成？

(A)


A.毛澤東、周恩來、王稼祥

B.毛澤東、朱德、周恩來

C.張聞天、毛澤東、周恩來

509.下圖是紅軍長征中的臘子口碉堡工事，其名稱由藏語「臘子庫」演變而來。

它在藏語中的原意最接近以下哪一項？(B)



A.神山之路

B.狹隘的山道隘口

C.天湖

510.紅軍右路軍歷時七天穿越了松潘草地，該地位於\_\_\_\_和\_\_\_\_的過渡帶，氣候寒冷潮濕，年平均氣溫在零度以下。(C)

A.青藏高原，橫斷山區

B.橫斷山區，成都平原

C.青藏高原，四川盆地

511.下圖為紅軍長征湘江戰役紀念園內的雕塑。該紀念園位於廣西桂林全州縣，其主題是：(B)



- A.一寸山河一寸血，十萬青年十萬軍
- B.一草一木一忠魂，一山一石一豐碑
- C.我輩當有凌雲志，不負江河萬古流

512. 穿越松潘草地時，紅軍面臨的主要自然威脅是：(B)

- A. 高溫乾旱
- B. 沼澤泥潭與嚴寒
- C. 野獸襲擊

513. 下圖為雲南省一座始建於南詔國時期、鼎足矗立的唐宋風格磚塔，是蒼山洱海的標誌性景觀。它是：(B)



- A. 大雁塔
- B. 崇聖寺三塔
- C. 虎丘塔

514. 1935年6月12日，中國工農紅軍紅一方面軍翻越夾金山，與紅四方面軍在

達維會師。夾金山於 2000 年被列為國家級森林公園，涵蓋多個原始生態區，是許多野生動物的天然棲息地。以下不是棲息在夾金山的國家重點保護動物是：(C)

- A. 大熊貓
- B. 扭角羚
- C. 朱鸕

515. 紅軍長征過程中，最早使用「長征」一詞的是：(B)

- A. 中國中央政治局《中央關於一、四方面軍會合後的政治形勢與任務的決議》
- B. 朱德《中國工農紅軍布告》
- C. 中央革命軍事委員會的戰略轉移命令

516. 下圖為貴州黔東南苗族同胞歡度傳統節日的場景。紅軍長征經過的黎平地區，苗族會在每年農曆六七月慶祝哪個節日？(C)



- A. 趕秋節
- B. 祭尤節
- C. 吃新節

517. 下圖為長征開始時年紀最大的紅軍戰士的留影。他與其他三名年齡較大的革命家並稱為「長征四老」。請問他是誰？(A)



- A. 徐特立
- B. 林伯渠
- C. 董必武

518. 下圖為國家博物館珍藏的一件出土於甘肅河州（今臨夏）的文物，該地因此被譽為「中國彩陶之鄉」。這件文物是：(C)



- A. 陶鷹鼎
- B. 戰國朱繪獸耳陶壺
- C. 彩陶王

519. 長征途中，紅軍經過的少數民族地區不包括：(A)

- A. 高山族聚居區
- B. 彝族聚居區

C.藏族聚居區

520.長征途中，紅軍唯一攻克並進行了較長時間休整的較大城市是？(B)

A.瀘定

B.遵義

C.會寧

521.下圖展現了貴州一處著名瀑布景觀的壯麗景色。明代旅行家徐霞客曾描述其為「高峻數倍者有之，而從無此闊而大者」。它是：(B)



A.赤水大瀑布

B.黃果樹瀑布

C.馬嶺河瀑布

522.下圖為六盤山風光，這是紅軍長征歷程中翻越的最後一座高山。以下哪句詩與六盤山無關？(C)



A.雁聲叫日迷寒渚，楓葉經霜帶醉顏。

B.勞人至此深惆悵，樵唱悠悠何處聲。

C.不知末後滄溟上，減卻瀛洲第幾峰。

523. 在以下選項中，\_\_\_\_不屬於長征的代稱之一。(C)

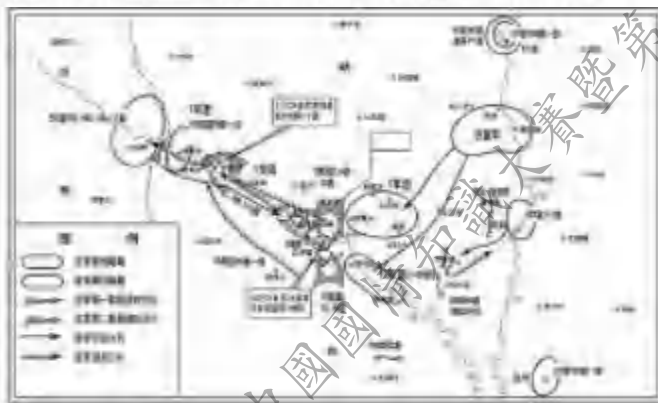
- A. 戰略轉移
- B. 長途行軍與戰鬥
- C. 長途征伐

524. 中央紅軍與紅四方面軍勝利會師後，中革軍委機關報《紅星報》刊登了紅軍總政治部宣傳隊專門為慶祝會師而譜寫的：(A)

- A. 《兩大主力會合歌》
- B. 《紅軍不怕遠征難》
- C. 《歡慶會師曲》

525. 下圖為直羅鎮戰役示意圖。關於此次戰役，下列敘述中不正確的是哪一項？

(A)



- A. 此役徹底粉碎了國民黨軍對陝甘蘇區的第四次「圍剿」。
- B. 毛澤東評價此役為中共中央「把全國革命大本營放在西北」舉行了「奠基禮」。
- C. 此役發生在紅軍第一方面軍主力長征到達陝甘革命根據地之後。

526. 下圖為因小說《邊城》而聞名世界的古鎮風光，被譽為「中國最美的小城」。

它位於：(B)



- A.恩施土家族苗族自治州
- B.湘西土家族苗族自治州
- C.張家界市

527.嘉陵江戰役是長征中的重要戰役之一。嘉陵江是長江一條著名的多沙支流，歷史上，其高輸沙量主要來源於以下哪個上游區域？(B)

- A.烏江流域
- B.西漢水流域
- C.赤水河流域

528.紅軍「巧渡金沙江」時，主要的渡口是？(C)

- A.龍街渡
- B.洪門渡
- C.皎平渡

529.紅軍長征途經的下列地區中，哪一個舊時地名與今天的正式名稱基本相同，未曾改變？(A)

- A.施秉
- B.大庸
- C.臺拱

530.下圖為雲貴川三省交界處的山川地形。遵義會議的延續和補充——「雞鳴三

省會議」(又稱石廂子會議)就是在這裏召開。此次會議涉及哪三省交界?(B)



- A. 黔桂滇
- B. 川滇黔
- C. 陝甘寧

531. 下圖為兩位著名的國際主義戰士。他們都曾不遠萬里來到中國，支援中國的抗日戰爭。請問他們是?(C)



- A. 白求恩
- B. 柯棣華
- C. 以上皆是

532. 下圖為 1936 年 12 月，兩位愛國將領在西安發動前的留影。請問「西安事變」的發動者是?(A)



- A.張學良、楊虎城
- B.蔣介石、汪精衛
- C.毛澤東、周恩來

533. 下圖為 1943 年開羅會議期間的合影。在抗日戰爭期間，中國與哪兩個國家共同發表了《開羅宣言》？(A)



- A.美國、英國
- B.蘇聯、法國
- C.英國、法國

534. 下圖為日本侵華期間在中國東北扶植的傀儡政權「皇帝」溥儀。這個政權的名稱是？(A)



- A. 滿洲國
- B. 汪偽政權
- C. 冀東防共自治政府

535. 下圖展現了台灣光復時民眾歡欣鼓舞的場面。抗日戰爭勝利後，台灣光復的具體日期是？(B)



- A. 15/8/1945
- B. 25/10/1945
- C. 2/9/1945

536. 下圖是抗戰期間的城市街景。在整個抗日戰爭期間，下列哪個城市作為陪都，始終未被日軍佔領？(A)



- A.重慶
- B.武漢
- C.廣州

537.下圖為抗日戰爭期間中國軍民抗敵的歷史照片。在這場漫長的戰爭中，中國軍民的傷亡總人數約為？答案：(C)



- A.100 萬
- B.350 萬
- C.3500 萬

538.下圖描繪了「八百壯士」堅守四行倉庫、浴血奮戰的場景。他們誓死保衛的是哪座城市？(B)



- A.南京

B.上海

C.武漢

539.下圖為毛澤東撰寫的《論持久戰》。在抗日戰爭時期，中國共產黨提出的戰略方針是？(A)



A.持久戰

B.速決戰

C.陣地戰

540.下圖為 1945 年9 月9 日，中國戰區受降儀式的現場。該儀式是在哪個城市舉行的？(A)



A.南京

B.重慶

C.北平

541. 下圖為 1943 年簽訂條約的歷史畫面。該條約的簽訂，標誌着中國廢除了與哪個國家的不平等條約？(B)



- A. 美國
- B. 英國
- C. 法國

542. 下圖為台兒莊戰役中壯烈殉國的將軍。請問下列哪位將領是在這場戰役中犧牲的？(B)



- A. 張自忠
- B. 王銘章
- C. 戴安瀾

543. 中國抗日戰爭是世界反法西斯戰爭的什麼部分？(A)

- A. 東方主戰場
- B. 次要戰場

C.後方支援

544.世界反法西斯聯盟正式形成的標誌是？(B)

A.《大西洋憲章》簽署

B.《聯合國宣言》發表

C.雅爾塔會議

545.下列哪位領導人未參加雅爾塔會議？(C)

A.羅斯福

B.邱吉爾

C.蔣介石


546.二戰結束後，國際秩序重建的重要文件是？(A)

A.《聯合國憲章》

B.《大西洋憲章》

C.《開羅宣言》

547.下圖是中國人民抗日戰爭紀念館，它位於哪座城市？(A)



A.北京

B.南京

C.重慶

548.國家設立的「烈士紀念日」是每年的？(B)

- A.3/9/2026
- B.30/9/2026
- C.13/12/2026

549.下圖為南京大屠殺死難者國家公祭儀式現場，該公祭日是？(C)



- A.3/9/2026
- B.18/8/2026
- C.13/12/2026

550.下圖是「九一八事變」紀念館，它位於？(A)




- A.瀋陽
- B.長春
- C.哈爾濱

551.下圖是抗日戰爭勝利後中國參與聯合國成立大會的場景，此後中國成為聯合國的什麼？(C)



- A. 常任理事國
- B. 非常任理事國
- C. 創始會員國

552. 下圖是抗日戰爭遺址盧溝橋，它已被列入世界文化遺產，與之相關的是？(A)



- A. 盧溝橋
- B. 平型關
- C. 台兒莊

553. 下圖為抗日軍政大學舊址，其前身是抗日軍政大學，現今發展為哪所學校？  
(A)



- A. 中國人民解放軍國防大學
- B. 中國人民大學
- C. 延安大學

554. 下圖為二戰期間盟軍空襲香港的歷史照片，盟軍何時開始對佔領香港的日軍進行空襲？(B)



- A. 1941 年
- B. 1942 年
- C. 1943 年

555. 下圖展示的是毛澤東的著作，書中提到「日本國度比較地小，其人力、軍力、財力、物力均感缺乏，經不起長期的戰爭。」，這一句出自哪本著作？(C)



- A. 《矛盾論》
- B. 《實踐論》
- C. 《論持久戰》

556. 日本侵華期間，以下哪一個是犯下「危害人類罪」及「戰爭罪」的部隊？(A)

- A. 731 部隊
- B. 730 部隊
- C. 631 部隊

557. 下圖是抗日戰爭中犧牲的最高級別將領，他是？(A)



- A. 張自忠
- B. 佟麟閣

C.趙登禹

558.下圖展示的是抗日戰爭中規模最大的會戰的場景，這場會戰是？(A)



A.武漢會戰

B.徐州會戰

C.長沙會戰

559.下圖是會議舊址，毛澤東在此提出了「政權是由槍桿子中取得的」這一論斷，該論斷是在哪裏提出的？(A)



A.八七會議

B.古田會議

C.遵義會議

560.下列哪個年份的 11 月 11 日在卡塔爾首都多哈正式簽署了中國加入世界貿易組織(WTO)的協議。一個月後，中國正式成為世貿組織成員，融入了世界多邊貿

易體制？(C)

A.1999

B.2000

C.2001

561. 中國近代史上賠款數額最大的不平等條約是？(B)

A.《南京條約》

B.《辛丑條約》

C.《馬關條約》

562. 下列哪一項是我國的領導階級，是我國先進生產力和生產關係的代表，是我們黨最堅實最可靠的階級基礎？(A)

A.工人階級

B.農民階級

C.地主階級

563. 下列哪一個年份的 10 月 14 日，習近平總書記在深圳經濟特區 40 周年慶祝大會上發表重要講話，明確指要規劃建設好河套合作區？(C)

A.2018

B.2019

C.2020

564. 以下哪一個經濟特區是全國唯一一個省級經濟特區，也是中國面積最大的經濟特區？(A)

A.海南

B.福建

C.江西

565. 哪一年，伍廷芳成為首位立法局華人議員，立法局內必須設有華人議席的原則從此確立？(C)

A.1860

B.1870

C.1880

566.哪一年，港英政府設立「保甲制」，以十戶為一甲，十甲為一保，對本地華人採取以華制華的間接管制政策？(A)

A.1844

B.1854

C.1861

567.《三國演義》中有關羽「單刀赴會」的故事，歷史上也確有「單刀赴會」一事，赴會的是以下哪一位？(C)

A.張飛

B.周瑜

C.魯肅

568.「為人民服務」是毛澤東同志在紀念以下哪一位追悼會上的講話？(B)

A.雷鋒

B.張思德

C.王進喜

569.《聯合早報》指出：「新時期中國經濟發展經歷了三個階段：第一個階段是對外開放，讓世界進入中國……」「讓世界進入中國」的標誌性事件是？(A)

A.深圳等經濟特區的建立

B.開發上海浦東新區

C.加入世界貿易組織

570.《論語》中認為「為仁之本」的是？(B)

A.忠義

B.孝悌

C. 廉恥

571. 以下哪一個選項是解決歷史遺留的香港、澳門問題的最佳方案，是回歸後 20 多年取得長足進步的根本原因，也是面向未來保持長期繁榮穩定的製度安排？(A)

A. 一國兩制

B. 一帶一路

C. 改革開放

572. 「一門父子三詞客，千古文章八大家」這副對聯中提到的「三父子」是？(B)

A. 曹操、曹丕、曹植

B. 蘇洵、蘇軾、蘇轍

C. 班彪、班固、班超

573. 「七月流火，九月授衣」，其中「七月流火」指的是？(B)

A. 天氣炎熱似火

B. 天氣漸漸轉涼

C. 流星異常出現

574. 「三反運動」是哪三項？(A)

A. 反浪費、反貪污、反官僚主義

B. 反飢餓、國內戰、反迫害運動

C. 反行賄、反偷稅漏稅、反偷工減料

575. 「不知細葉誰裁出，二月春風似剪刀。」唐代詩人賀知章這首詠物小詩描述的是哪一種植物？(C)

A. 楊樹

B. 杉樹

C. 柳樹

576. 「人生自古誰無死，留取丹心照汗青。」這句具有強烈愛國精神的詩句出自

第十六屆全港學生中國國情知識大賽暨第五屆中國文化和旅遊知識競賽

哪位之手？(A)

A.文天祥

B.岳飛

C.鄭成功

577.「先天下之憂而憂，後天下之樂而樂。」出自哪部作品？(A)

A.《岳陽樓記》

B.《蘭亭集序》

C.《醉翁亭記》

578.「剪不斷，理還亂，是離愁，別有一番滋味在心頭」出自哪位文人之手？(A)

A.李煜

B.溫庭筠

C.韋莊

579.「十年生死兩茫茫，不思量，自難忘。」這首著名的《江城子》是哪位詞人為了紀念亡妻所作？(B)

A.陸游

B.蘇軾

C.辛棄疾

580.「千古奇冤，江南一葉；同室操戈，相煎何急？」是周恩來在哪一個事變後對國民黨蔣介石的控訴和回擊？(A)

A.皖南事變

B.西安事變

C.七七事變

581.「味摩詰之詩，詩中有畫；觀摩詰之畫，畫中有詩。」這是蘇軾對哪位唐代詩人詩畫的著名評價？(C)

A.李白

B.孟浩然

C.王維

582.「唐僧去西天取經」成為了家喻戶曉的故事。那麼「西天」在當時和現在的名字分別是？(B)

A.波斯印度

B.天竺印度

C.吐蕃西藏

583.「囊螢映雪」形容家貧而刻苦讀書，與其意思相近的是？(A)

A.鑿壁借光

B.肝腦塗地

C.乘風破浪

584.「多情自古傷離別，更哪堪冷落清秋節」出自哪位詞人之手？(C)

A.晏殊

B.李煜

C.柳永

585.「大江東去，浪淘盡千古風流人物……」這首氣勢豪邁，雄健奔放，令人蕩氣迴腸的詞的作者是誰？(A)

A.蘇軾

B.李清照

C.蘇東坡

586.「天下第一關」指的是？(B)

A.嘉峪關

B.山海關

C.玉門關

587.「建元」是古代中國哪一位帝王使用的年號。(B)

A. 隋煬帝

B. 漢武帝

C. 漢景帝

588. 「念天地之悠悠，獨愴然而涕下」出自唐代詩人陳子昂的哪首詩歌？(C)

A. 《春夜別友人二首·其一》

B. 《燕昭王》

C. 《登幽州臺歌》

589. 「此情無計可消除，才下眉頭，卻上心頭。」出自哪位詞人之筆？(C)

A. 晏幾道

B. 周邦彥

C. 李清照

590. 「無中生有」屬於三十六計中的？(B)

A. 空城計

B. 敵戰計

C. 並戰計

591. 「無為而治」的思想是誰提出的？(B)

A. 莊子

B. 老子

C. 孟子

592. 「秋收起義」爆發於以下哪一年份？(B)

A. 1921

B. 1927

C. 1936

593. 「窈窕淑女，君子好逑」出自《詩經》的哪篇文章？(A)

- A. 《國風·周南·關雎》
- B. 《國風·周南·桃夭》
- C. 《國風·秦風·蒹葭》

594. 「紙鳶」是指？(C)

- A. 髮簪
- B. 屏風
- C. 風箏

595. 「羌笛何須怨楊柳，春風不度玉門關。」中的玉門關乃是唐代通往西域的要路關口，請問它在今天的中國哪個省市？(B)

- A. 青海西寧
- B. 甘肅敦煌
- C. 陝西西安

596. 「蓋有非常之功，必有非常之人。」漢武帝時期出現的「非常之人」與「非常之功」是指？(A)

- A. 董仲舒建議「罷黜百家，獨尊儒術」
- B. 張仲景編著《傷寒雜病論》
- C. 蔡倫改進紙術

597. 「西出陽關無故人」中的「陽關」在現在的哪一個省（區）？(C)

- A. 內蒙古
- B. 新疆
- C. 甘肅

598. 「評此畫如奇書，顏筋柳骨追歐虞。」宋代詩人陸遊這句詩中的「顏筋柳骨」是對唐朝哪兩個書法家書體的合稱？(B)

- A. 顏真卿吳道子
- B. 顏真卿柳公權

C.顏真卿柳宗元

599.「輕似蟬翼白如雪，抖似細綢不聞聲」指人們對中國古代哪一物品的讚譽？

(C)

A.絲綢

B.麻

C.宣紙

600.「道生一，一生二，二生三，三生萬物」，道是天地萬物產生的本源，這是誰的思想?(A)

A.老子

B.韓非子

C.墨子

601.「遙知兄弟登高處，遍插茱萸少一人。」的作者是誰？(B)

A.孟浩然

B.王維

C.高適

602.「遣唐使」是對哪個國家的赴唐使節的稱呼?(B)

A.朝鮮

B.日本

C.波斯

603.「青山有幸埋忠骨，白鐵無辜鑄佞臣」。對聯中「忠骨」指的是？(C)

A.鄭成功

B.戚繼光

C.岳飛

604.「韓柳三蘇王曾陽」是唐宋時期八大散文家的合稱，即唐宋八大家，請問其中「柳」指的是誰？(B)

第十六屆全港學生中國國情知識大賽暨第五屆中國文化和旅遊知識競賽

- A.柳永
- B.柳宗元
- C.柳如是

605.「黃粱一夢」的典故出自哪一部傳奇小說作品？(A)

- A.《枕中記》
- B.《任氏傳》
- C.《柳毅傳》

606.15 世紀上半期，鄭和率領船隊七下西洋。鄭和船隊最遠到達的地區包括？

(1)馬六甲海峽(2)紅海沿岸(3)印度半島(4)非洲東海岸(B)

- A.(1)(2)
- B.(2)(4)
- C.(1)(3)

607.\_\_\_\_\_ 是香港在國家「十五五」規劃中獲賦予的一系列策略定位，旨在進一步鞏固和提升香港的競爭優勢。(A)

- A. 十大中心、兩大樞紐、一個生態圈
- B. 八大中心、三大樞紐、兩個生態圈
- C. 九大中心、一大樞紐、三個生態圈

608.1860 年，英政府強迫清政府簽訂哪一項條約，割讓九龍地區予英國？(B)

- A.《南京條約》
- B.《北京條約》
- C.《辛丑條約》

609.1920 年 8 月，陳獨秀等領導建立的中國最早的共產黨組織是？(B)

- A.北京共產主義小組
- B.上海共產主義小組
- C.廣州共產主義小組

610.1922年，因不滿薪酬過低，部分海員發動罷工運動，並得到了各界勞工的支持，香港運輸一度陷入癱瘓，港督支持船務公司抵制海員要求，查封工會，為了阻止工人離港，港警攔截回鄉工人並造成沙田慘案。請問當時港督激烈抵制罷工行為，最主要的原因是什麼？(A)

- A.認為罷工是政治事件，目的是迫使英國撤出香港
- B.同意罷工加薪要求會加重政府負擔
- C.害怕工人力量壯大

611.1925年國民政府將所轄各部隊統一改編為？(B)

- A.國民軍
- B.國民革命軍
- C.北伐軍

612.1935年12月，中共中央在陝北瓦窯堡召開政治局擴大會議，確立了以下哪一項的政策？(C)

- A.建立國民革命聯合戰線
- B.建立工農民主統一戰線
- C.建立抗日民族統一戰線

613.1938年，毛澤東發表的系統闡述抗日戰爭特點、前途和發展規律的著作是？

- (A)
- A.《論持久戰》
- B.《論游擊戰》
- C.《論人民民主專政》

614.1940年8月創辦的哪一所學校是中國共產黨歷史上第一所培養科技人才的大學？(B)

- A.自然科學研究會
- B.延安自然科學院
- C.馬列學院

615.1945年4月23日至6月11日，中國共產黨第七次全國代表大會在何地召開，確立毛澤東思想為黨的一切工作的指針，全黨實現空前團結和統一？(A)

- A.延安
- B.北京
- C.杭州

616.1947年6月，晉冀魯豫野戰軍挺進中原，揭開了人民解放戰爭？(C)

- A.戰略防禦的序幕
- B.戰略轉移的序幕
- C.戰略進攻的序幕

617.1954年9月15日至28日，第一屆全國人民代表大會第一次會議在北京隆重召開。大會通過了以下哪一項，以根本大法的形式，把中國共產黨在過渡時期的總路線作為國家在過渡時期的總任務確定下來？(B)

- A.《中國人民政治協商會議共同綱領》
- B.《中華人民共和國憲法》
- C.《中華人民共和國中央人民政府組織法》

618.1979年1月1日，中國與以下哪一個國家正式建立外交關係？(C)

- A.英國
- B.法國
- C.美國

619.1992年1月18日至2月21日，鄧小平同志到武昌、深圳、珠海、上海等地視察，發表了重要談話，給人們指清了改革的方向。該談話又稱？(C)

- A.鄧小平南方巡視
- B.鄧小平南方調研
- C.鄧小平南方談話

620.1993年後，大批國有企業積極進行公司制、股份制改革，出現了邯鄲鋼鐵

總廠等一批先進典型。這表明中國經濟體制改革的目標是？(B)

- A. 建立計劃經濟體制
- B. 建立社會主義市場經濟體制
- C. 加強國家干預經濟

621. 19 世紀末，日本帝國主義在中國劃分的勢力範圍是？(A)

- A. 福建
- B. 廣東
- C. 湖南

622. 822 年的「長慶會盟」是唐室與哪個少數名族發生的？

- A. 吐蕃
- B. 突厥族
- C. 匈奴

623. 985 工程，俗稱「985 院校」，是指中華人民共和國教育部為了建設若干所世界一流大學和一批世界著名高水平研究型大學而實施的教育計劃，此名來自於 1998 年 5 月江澤民在哪一所百年校慶上提出此想法，至今包含 39 所頂尖大學？

- (A)
- A. 北京大學
  - B. 清華大學
  - C. 南開大學

624. 一百多年來中國人民反對帝國主義侵略第一次取得完全勝利的民族解放戰爭是？(C)

- A. 鴉片戰爭
- B. 甲午戰爭
- C. 抗日戰爭

625. 一種以正房、倒座房、東西廂房圍繞中間庭院形成平面布局的傳統住形式

是？(A)

- A. 四合院
- B. 蘇州庭院
- C. 徽州民居

626. 下列中國古代科技著作中，成書於漢代的是？(C)

- A. 《本草綱目》
- B. 《齊民要術》
- C. 《九章算術》

627. 下列哪個地區不是少數民族自治區？(C)

- A. 寧夏
- B. 廣西
- C. 雲南

628. 下列男性文學形象中出現於清代的？(A)

- A. 賈寶玉
- B. 張生
- C. 焦仲卿

629. 下列詩句中，描寫朋友間情誼的？(B)

- A. 金風玉露一相逢，便勝卻人間無數。
- B. 桃花潭水深千尺，不及汪倫送我情。
- C. 身無彩鳳雙飛翼，心有靈犀一點通。

630. 世界上最高的高原，被稱為「世界屋脊」的是哪個高原？(A)

- A. 青藏高原
- B. 雲貴高原
- C. 黃土高原

631. 世界上現存最早的，標有確切日期的雕版印刷品印製於哪一個朝代？(C)

- A. 漢朝
- B. 隋朝
- C. 唐朝

632. 世界許多國家和地區的大城市都有華僑，華人聚居的「唐人街」。「唐人街」早叫「大唐街」，此名字的由來說明？(A)

- A. 唐朝文化在歷史上享有很高的聲望
- B. 在外國的中國人很多
- C. 唐朝與歐洲的關係永世友好

633. 中國五大戲曲劇種之一的黃梅戲起源於湖北的黃梅縣但是發展壯大於哪個省份？(A)

- A. 安徽
- B. 湖南
- C. 湖北

634. 中國人民幣上有五種文字，除了漢字外，還有哪個族的文字？(B)

- A. 蒙、藏、回、維
- B. 蒙、藏、壯、維
- C. 藏、回、壯、維

635. 中國佛教四大名山亦是「佛教四大道場」，請問其中的峨眉山是哪位菩薩的道場？(B)

- A. 文殊菩薩
- B. 普賢菩薩
- C. 地藏菩薩

636. 中國最大的內陸盆地是？(C)

- A. 準噶爾盆地

B.柴達木盆地

C.塔里木盆地

637. 中國最大的沙漠是？(B)

A.古爾班通古特沙漠

B.塔克拉瑪幹沙漠

C.騰格裏沙漠

638. 中國最大的甜菜生產基地是？(B)

A.華北平原、遼河平原

B.松嫩平原、三江平原

C.江淮地區

639. 中國最早的一部詳細記錄作者所經地理環境並且最早記錄並詳細考證岩溶地貌成因的書籍是？(B)

A.《山海經》

B.《徐霞客遊記》

C.《水經注》

640. 中國分部最廣的小數民族是？(A)

A.回族

B.壯族

C.錫伯族

641. 中國古代歷史上最最重要的農書《齊民要術》出自哪位之筆？(B)

A.徐光啟

B.賈思勰

C.王禎

642. 中國古代科舉考試最後在殿試中考取第二名被稱為？(C)

第十六屆全港學生中國國情知識大賽暨第五屆中國文化和旅遊知識競賽

A.狀元

B.探花

C.榜眼

643.中國古典詩詞浩如煙海，詩人燦若星河。與名篇《靜夜思》的作者生活于同一朝代的是？(A)

A.杜甫、白居易

B.杜甫、李清照

C.白居易、辛棄疾

644.中國四大發明中出現於唐朝時期的有哪些？(B)

A.造紙術印刷術

B.印刷術火藥

C.指南針火藥

645.中國在下列哪一個思想體系中確立了科技強軍的思想？(C)

A.毛澤東軍事思想

B.鄧小平軍隊建設思想

C.江澤民國防和軍隊建設思想

646.中國在南極設立的第一個考察站叫？(A)

A.長城站

B.中山站

C.泰山站

647.中國地方行政單位稱為「省」，這種制度開始於哪個朝代？(A)

A.元朝

B.明朝

C.清朝

648. 中國境內離海洋最遠的城市是？(A)

- A. 烏魯木齊
- B. 哈密
- C. 包頭

649. 中國夏季平均氣溫最低的地區分布在？(A)

- A. 青藏高原
- B. 漠河地區
- C. 天山山脈

650. 中國少數民族的主要分布區是？(C)

- A. 東南、西北和東北
- B. 西部地區
- C. 西南、西北和東北

651. 中國戲劇表演藝術的最高獎項是？(A)

- A. 梅花獎
- B. 金獅獎
- C. 百花獎

652. 中國播種面積和產量一直佔據首位的糧食作物是什麼？(B)

- A. 小麥
- B. 水稻
- C. 玉米

653. 中國新世紀四大工程是哪些？(A)

- A. 青藏鐵路、南水北調、西氣東輸、西電東送
- B. 青藏公路、青藏鐵路、西氣東輸、西電東送
- C. 青藏鐵路、長江三峽、西氣東輸、西電東送

第十六屆全港學生中國國情知識大賽暨第五屆中國文化和旅遊知識競賽

654. 中國書畫史上被稱為「畫聖」的是哪位畫家?(C)

- A. 鬼谷子
- B. 韓非子
- C. 吳道子

655. 中國有五十六個民族，在中華民族的大家庭中，形成於元朝的新民族是？(A)

- A. 回族
- B. 白族
- C. 傣族

656. 中國東西走向的山脈中，最靠南的一列山脈是？(C)

- A. 天山和陰山
- B. 崑崙山和秦嶺
- C. 南嶺

657. 中國歷史上第一部紀傳體史書——《史記》的作者是？(A)

- A. 司馬遷
- B. 司馬光
- C. 司馬炎

658. 中國現存的面積最大的古城是？(A)

- A. 西安
- B. 洛陽
- C. 北京

659. 中國男隊奪得 2018 體操世錦賽男團下列哪一個名次，直接獲得了 2020 年東京奧運會體操團體參賽資格。(A)

- A. 冠軍
- B. 亞軍

C.季軍

660. 中國畫史中，被公認為水準最高的山水畫作《富春山居圖》的作者是？(C)

A.石濤

B.沈周

C.黃公望

661. 中國的「五糧液」最早釀造在哪一個朝代？(B)

A.元

B.明

C.清

662. 中國的四大名繡是？(A)

A.蘇繡、粵繡、蜀繡、湘繡

B.蘇繡、粵繡、蜀繡、閩繡

C.蘇繡、粵繡、徽繡、湘繡

663. 中國的地勢總特徵是什麼？

A.西高東低

B.中間高東西低

C.東高西低

664. 中國歷史傳說中，最早教人種田並且嘗試各種草藥的人是誰？(B)

A.伏羲

B.神農

C.黃帝

665. 中國的特殊經濟區起初設立在哪个城市？(B)

A.上海

B.深圳

C.北京

666. 中國第一次設立的以個人名字命名的文學獎是？(B)

A.魯迅文學獎

B.茅盾文學獎

C.老舍文學獎

667. 二十世紀八九十年代，鄧小平提出下列哪一種外交戰略？(C)

A.「冷靜觀察，沉着應對」

B.「韜光養晦，絕不當頭」

C.「韜光養晦、有所作為」

668. 二戰後香港工業發展迅速，其原因不包括？(C)

A.大量移民湧入，提供勞動力資源

B.西方國家經濟增長，對輕工業日用品需求大量增加

C.內地政府提供大量資金及技術支援

669. 五四運動的導火線是巴黎和會討論中國下列哪一個城市的歸屬問題？(C)

A.香港

B.天津

C.青島

670. 亞洲基礎設施投資銀行，簡稱亞投行，是一個向亞洲各國家和地區政府提供資金以支援基礎設施建設之區域多邊開發機構，成立宗旨在促進亞洲區域內的互聯互通建設和經濟一體化進程。亞投行的總部設在中國下列哪一個城市？(A)

A.北京

B.上海

C.天津

671. 享有「寰中絕勝」和「海上名山」美譽的是？(A)

A.雁蕩山

B.天目山

C.天台山

672.人們根據土壤顏色常把東北平原稱為？(B)

A.紅土地

B.黑土地

C.紫土地

673. 中國人民解放軍三軍儀仗隊中的「三軍」通常指的是哪三個軍種？(A)

A. 陸軍、海軍、空軍

B. 陸軍、海軍、火箭軍

C. 海軍、空軍、武警

674.人稱「政啟開元，治宏貞觀」的古代帝王是？(C)

A.李治

B.李隆基

C.武則天

675.以「資治通鑒」為書名的意思是？(C)

A.揭示為君之要

B.已發展經濟為目的治理國家

C.鑒於往事，有資於治道

676.以下不屬於大一統國家的是？(C)

A.西漢

B.東漢

C.北宋

677.以下關於唐太宗與隋文帝的共同之處的敘述，錯誤的是哪一個？(A)

- A.開國皇帝
- B.提倡節儉
- C.重視發展生產

678.位於四川省成都市的水利工程——都江堰是由以下哪對父子設計的？(A)

- A.李冰
- B.李成
- C.李廣

679.位於青藏高原、黃土高原、內蒙古高原的接觸地帶的是哪一座省？(A)

- A.甘肅
- B.陝西
- C.寧夏

680.促使唐太宗認識到「君民是舟水關係」最主要的因素是？(A)

- A.隋朝滅亡的教訓
- B.統一全國的艱難
- C.樹立權威的需要

681.傣族的特色民居是？(A)

- A.竹樓
- B.四合院
- C.蒙古包

682.傳說是人們世代口耳相傳保留下來的歷史敘述。龍是中華民族的象徵，其形象是遠古眾多部落崇拜物的綜合體。與龍形象形成密切相關的傳說是？(A)

- A.炎黃傳說
- B.堯舜傳說
- C.山海傳說

683.元朝建立並對後世影響深遠的制度是什麼？(A)

- A.行省制
- B.分封制
- C.郡縣制

684.元朝時期，管轄今天西藏地區的是？(A)

- A.宣政院
- B.四川行省
- C.甘肅行省

685.兩宋時期海外貿易發達，中國商船最遠能夠到達非洲東海岸和紅海沿岸。從航海技術上講這主要得益於？(B)

- A.絲綢之路的出現
- B.指南針的應用
- C.我國同亞非各國的友好往來

686.六禮，是中國古代的婚禮，在周朝即已確立，以下選項中「六禮」的排序正確的是？(A)

- A.納采、問名、納吉、納徵、請期、親迎
- B.問名、納吉、納徵、納采、請期、親迎
- C.納吉、問名、納徵、請期、納采、親迎

687.具有全身麻醉作用的「麻沸散」是中國古代哪位醫學家發明的？(B)

- A.扁鵲
- B.華佗
- C.張仲景

688.最早提出「勾股關係定理」的是中國的哪一位數學家？(B)

- A.祖沖之
- B.商高

C.張邱建

689.北京出土的青銅器「克盃」記載：周成王封克做匭(今北京地區)的諸侯，管理羌族、馭族……克進駐匭地，接收土地，平息動亂。此記載印證的分封制的內容是？(B)

A.諸侯在戰時須帶兵從周天子作戰

B.諸侯得到周天子授予的土地和臣民

C.諸侯向周天子繳納貢品

690.北宋初以後，中國古代軍閥割據局面不復存在的主要原因是？

A.政治制度的改革

B.生產力的發展

C.民族大融合

691.南唐故都是？(A)

A.金陵

B.洛陽

C.長安

692.南宋的政治中心和繁華的商業都市是？(A)

A.臨安

B.長安

C.泉州

693.南豐蜜桔是中國哪個地區的特產？(B)

A.溫州

B.江西

C.雲南

694.哪個成語是形容「門庭冷落、少有賓客」的？(A)

A.門可羅雀

B.門庭若市

C.萬人空巷

695.哪個成語比喻說話做事以似是而非的跡象作為根據，沒有真憑實據？(C)

A.空穴來風

B.班門弄斧

C.捕風捉影

696.唐代一位皇帝精通樂律在華清宮內建造「梨園」，選取弟子並且親自教學，此後戲曲界被稱為「梨園」，戲曲演員被稱為「梨園弟子」，這位皇帝是？(C)

A.唐高宗李治

B.唐太宗李世民

C.唐玄宗李隆基

697.唐朝和宋朝之間建有下列哪一個朝代？(C)

A.五代十國

B.南北朝

C.春秋戰國

698.唐朝時期，居住在東北地區的少數民族是？(C)

A.回紇族

B.突厥族

C.靺鞨族

699.唐朝時期，彝族和白族的祖先在雲南蒼山洱海一帶建立的政權是？(C)

A.回紇政權

B.渤海政權

C.南詔政權

700.唐朝的「坊」指的是什麼區域？(A)

第十六屆全港學生中國國情知識大賽暨第五屆中國文化和旅遊知識競賽

- A.住宅區
- B.手工業作坊
- C.店鋪

701.商鞅變法在社會經濟方面，對後世影響最深遠的是？(A)

- A.廢除井田制
- B.建立縣制
- C.重農抑商

702.回鶻是現在哪一個少數民族的祖先？(C)

- A.回族
- B.羌族
- C.維吾爾族

703.國際風箏聯合會組織總部所在地，並被各國推舉為「世界風箏之都」的是哪個城市？(A)

- A.山東濰坊
- B.江蘇南通
- C.廣東陽江

704.在「一國兩制」的背景下，香港具有什麼樣的獨特優勢？(A)

- A.背靠祖國、聯通世界
- B.交通樞紐、四通八達
- C.金融中心、發展迅速

705.在 1938 年9-11 月召開的會議上，毛澤東明確提出「馬克思主義的中國化」命題，請問這次會議的名稱是？(B)

- A.中共七屆二中全會
- B.中共六屆六中全會
- C.中共十一屆三中全會

706.在 1955 年召開的萬隆會議上，共有多少個國家參加，周恩來總理發言重申了以和平共處五項原則為基礎，通過協商解決國際爭端的主張？(B)

A.28

B.29

C.30

707.在中國傳統節日中，吃糉子是哪個節日的節俗內容？(B)

A.重陽節

B.端午節

C.清明節

708.在中國古代的詩詞中「南冠」一詞通常是指？(A)

A.囚犯

B.武官

C.詩人

709.在中國哲學史上首次明確提出「知行合一」這個命題的是？(C)

A.朱熹

B.程頤

C.王陽明

710.在中國茶史上，被尊為「茶聖」的是？(C)

A.杜育

B.蔡襄

C.陸羽

711.在俄國十月革命影響下，率先在中國舉起馬克思主義旗幟的是？(B)

A.陳獨秀

B.李大釗

C.孫中山

712.在商代，中國開始首次出現在？大約在公元前 1600 年，商湯滅夏，取代了夏朝。(A)

A.青銅文明

B.新石器文明

C.鐵器文明

713.在棗宜會戰中為國捐軀的國民黨高級將領是？(C)

A.李宗仁

B.趙登禹

C.張自忠

714.在社會主義建設中，湧現出無數先進模範人物。其中喊出「寧肯少活 20 年，拼命也要拿下大油田」口號的人是下列哪一位？

A.雷鋒

B.張思德

C.王進喜

715.太平紳士源於英國政府委託民間人士維持社區秩序，防止非法刑罰。在香港，太平紳士制度已經有了 100 多年的歷史，太平紳士制度確立初期，太平紳士全屬下列哪一項？(A)

A.英國洋商

B.香港市民

C.中國公民

716.太極拳最早是在什麼時候出現的？(A)

A.明清

B.宋朝

C.民國

717.如果你是唐玄宗時期的讀書人，在參加進士科考試之前，你主要複習的內容是？(B)

- A.算學
- B.詩賦
- C.地理

718.它曾是世界上最大的宮殿建築，它氣勢宏偉、富麗堂皇，自唐高宗時就成為唐朝最重要的宮廷，見證了大唐的輝煌與沒落。它是？(B)

- A.阿房宮
- B.大明宮
- C.故宮

719.宋末明初時期，中原戰亂不斷。漢人為逃避戰亂，不少人南遷香港新界，開村立業，人口繁衍，成為大族。其中，被稱為新界五大族的是文氏、廖氏、侯氏、彭氏以及？(C)

- A.李氏
- B.張氏
- C.鄧氏

720.宋詞豪放派的代表人物包括下列的哪三位？(C)

- A.柳永、張先、晏殊等
- B.李白、杜甫、王勃等
- C.蘇軾、辛棄疾、陸游等

721.寇準是北宋著名的宰相，也是多部民間故事、戲劇的主角。下列哪一事件與寇準有關？(B)

- A.杯酒釋兵權
- B.勸皇帝親征
- C.佔領燕雲十六州

722.山脈是地形的骨架，一些山脈常成為地形區分界線，分界山脈是太行山的一組地形區是？(A)

- A.黃土高原/華北平原
- B.青藏高原/雲貴高原
- C.內蒙古高原/東北平原

723.廣西省的簡稱是下列哪一個？(A)

- A.桂
- B.皖
- C.渝

724.建於東漢的中國第一座佛寺——白馬寺位於哪裏？(A)

- A.河南洛陽
- B.陝西西安
- C.河南鄭州

725.建立遼國的民族下列哪一個

- A.靺鞨
- B.朝鮮族
- C.契丹族

726.弱冠之年在古代是指男子多少歲？(C)

- A.16 歲
- B.48 歲
- C.20 歲

727.張之洞在《勸學篇》中提出的思想主張是？(A)

- A.中學為體，西學為用
- B.師夷長技以制夷

第十六屆全港學生中國國情知識大賽暨第五屆中國文化和旅遊知識競賽

C.物競天擇，適者生存

728.彝族人民醫藥知識豐富，根據他們祖傳配方製成的一種藥，專治跌打損傷，遠近馳名，這種藥是下列哪一個？(C)

A.六神丸

B.清涼油

C.雲南白藥

729.從明朝萬曆元年（1573年）起，香港屬於哪一個縣管轄？(C)

A.番禺縣

B.東莞縣

C.新安縣

730.成語「契若金蘭」中「金蘭」指的是？(C)

A.夫妻和睦

B.父子融洽

C.朋友相投

731.成語「完璧歸趙」的典故中，使得和氏璧完好無損回到趙國的主人公是誰？

(A)

A.藺相如

B.龐涓

C.伍子胥

732.成語「家徒四壁」的典故與哪個歷史人物有關？(C)

A.張儀

B.司馬光

C.司馬相如

733.成語「樂不思蜀」的典故與哪個歷史人物有關？(B)

A.劉備

B.劉禪

C.劉理

734.成語「諱疾忌醫」源於哪位名醫治病的故事?(A)

A.扁鵲

B.華佗

C.張仲景

735.成語「負荊請罪」的典故中，背着荊條向藺相如請罪的是誰?(C)

A.白起

B.李牧

C.廉頗

736.成語「飲鳩止渴」中的「鳩」是指下列哪一種酒?(A)

A.毒酒

B.葡萄酒

C.梅酒

737.成語「黔驢技窮」中的「黔」指的是下列哪一個省份?(B)

A.廣西省

B.貴州省

C.雲南省

738.成語中與「一葉知秋」意思相近的是?(B)

A.坐井觀天

B.見微知著

C.以管窺天

739.成語中與「夜郎自大」意思相近的是?(B)

A.妄自菲薄

第十六屆全港學生中國國情知識大賽暨第五屆中國文化和旅遊知識競賽

B.妄自尊大

C.虛懷若穀

740.成語中與「班門弄斧」意思相近的是？(A)

A.布鼓雷門

B.程門立雪

C.舞文弄墨

741.成語典故「金屋藏嬌」中藏嬌的是中國歷史上哪一位皇帝？(C)

A.漢惠帝

B.漢文帝

C.漢武帝

742.我國古代用「金」「石」「絲」「竹」指代不同材質、類別的樂器。涉及「竹」的詩詞是下列哪一句？(C)

A.珠簾夕殿聞鐘磬，白日秋天憶鼓鼙

B.主人有酒歡今夕，請奏鳴琴廣陵客

C.深秋簾幕千家雨，落日樓臺一笛風

743.我國城市的改革仍然是對內改革的重中之重，我國城市改革全面展開的時間及最早改革的重點是？(B)

A.1978 國有企業

B.1985 國有企業

C.1985 私有企業

744.我國對外開放 35 年來形成了多個沿海經濟開放區，其中閩南三角區位於哪一個省份？(B)

A.廣東省

B.福建省

C.海南省

745.我國書法藝術博大精深，其中「歐體」指的是下列哪一位的字體？(B)

- A.歐陽修
- B.歐陽洵
- C.歐陽玄

746.截至 2018 年 8 月，已與中國建交的國家達到多少個？(C)

- A.18
- B.58
- C.178

747.戰國時期的兩大顯學分別是儒家和？(C)

- A.法家
- B.道家
- C.墨家

748.抗戰老兵張步風在回憶錄中寫到：「1940 年秋天的三個多月時間裏，我們在正太鐵路附近，到底拔了多少電杆，拆毀了多少鐵軌，拔掉了多少據點，現在都已經記不清了……」張老所回憶的歷史事件是下列哪一件？(A)

- A.百團大戰
- B.五四運動
- C.南昌起義

749.按《史記》記載，司馬相如是在宴席上以何種樂器向卓文君表達感情的？(B)

- A.笙簧
- B.琴
- C.琵琶

750.推動高質量發展的必由之路是？(B)

- A.推進高水平對外開放
- B.加快實現高水平科技自立自強

C.實現共同富裕

751.搶親是哪個少數民族風行的婚俗？(B)

A.土家族

B.彝族

C.回族

752.新形勢下我軍的軍事戰略方針是？(A)

A.積極防禦

B.主動進攻

C.隨時應戰

753.既是中國近代第一批被迫開放的通商口岸，又是改革開放時期的經濟特區的城市是？(A)

A.廈門

B.深圳

C.珠海

754.日本佔領香港後，為了推行掠奪性的金融政策，發行下列哪一種以代替港幣？(C)

A.日元

B.英鎊

C.軍票

755.早期殖民地時期香港法律的特點包括？(C)

A.建立英式法律體系，推翻《大清律例》

B.保障香港人權，中外人士無區別對待

C.重視經濟立法，一些法例明顯歧視華人

756.明建國之初，太祖朱元璋鑒於「人君不能恭覽庶政，大臣專權自恣(放縱)」的狀況，採取的措施是？(B)

第十六屆全港學生中國國情知識大賽暨第五屆中國文化和旅遊知識競賽

A. 設置廠衛特務機構，健全政府職能

B. 廢除丞相，強化君主專制

C. 建立內閣制度，增強地方控制

757. 有一座城市，它是 1980 年我國建立的第一個經濟特區，被譽為「一夜崛起之城」，這座城市是？(B)

A. 汕頭

B. 深圳

C. 珠海

758. 杜甫的詩句「隨風潛入夜，潤物細無聲」描寫的是哪個季節的雨？(B)

A. 夏雨

B. 春雨

C. 秋雨

759. 東漢朝廷常以下列哪一種方式，將邊疆的北方各族內遷，以便監控各族或是增加兵源和勞動力？到了西晉時，中國北部、東部和西部，尤其是并州和關中一帶，大量胡族與漢族雜住。這些胡族逐漸成為漢人管轄下的編戶，由於他們需要納稅，且時時受漢官欺壓或受漢人歧視，因此心生不滿，時有舉兵之事。(B)

A. 援引外戚輔政

B. 招引或強制

C. 宦官交結擅權

760. 根據《中華人民共和國香港特別行政區基本法》規定，香港特別行政區依照實行高度自治，但不獨立享有以下哪一項權利？(C)

A. 行政管理權

B. 立法權

C. 外交權

761. 楷書興起於漢代，到唐代更顯出唐人的氣度和胸襟。被譽為唐代最有成就的書體是？(C)

A.「歐體」

B.「柳體」

C.「顏體」

762.標誌着中國共產黨開始獨立領導革命戰爭和創建人民軍隊的事件是？(C)

A.秋收起義

B.武昌起義

C.南昌起義

763.歷史上的「澶淵之盟」是北宋與同時期少數民族關係的縮影。它是北宋與哪個少數民族政權訂立的？(A)

A.遼

B.西夏

C.金

764.比喻有希望趕上或達到的是哪個成語？(B)

A.望塵莫及

B.望其項背

C.望門投止

765.河南省的簡稱是下列哪一個？(C)

A.湘

B.蜀

C.豫

766.深化科技體制改革、推動實現高水平科技自立自強的關鍵舉措是？(B)

A.大力引進高科技人才

B.強化企業科技創新主體地位

C.為企業提供大量資金

767.深受人民愛戴的「凍死不拆屋，餓死不擄掠」的軍隊是？(A)

- A.岳家軍
- B.戚家軍
- C.八路軍

768.深港通，是深港股票市場交易互聯互通機制的簡稱，指深圳證券交易所和香港聯合交易所有限公司建立技術連接，使內地和香港投資者可以通過當地證券公司或經紀商買賣規定範圍內的對方交易所上市的股票。下列哪一個年份的4月5日，深港通正式啟動？(B)

- A.2014
- B.2016
- C.2018

769.玄奘歸國後，以親身經歷寫成了？(A)

- A.大唐西域記
- B.西遊記
- C.史記

770.玉兔號月球車能抵受月面真空、強輻射和攝氏多少度到多少度的極端溫度，並能在月夜過後自動喚醒重新工作？(C)

- A.-220 度到 340 度
- B.-170 度到 280 度
- C.-180 度到 150 度

771.王維的詩被後人翻演成《陽關三疊》的名作是？(C)

- A.《山居秋暝》
- B.《渭川田家》
- C.《送元二使安西》

772.甲午中日戰爭中的哪一個艦隊全軍覆沒標志着洋務運動破產？(A)

A.北洋艦隊

B.南洋艦隊

C.北海艦隊

773.盛唐時期出現了以描述邊塞征戰和遍地風情為主的「邊塞詩派」，以下不屬於邊塞詩派的是？(A)

A.杜甫

B.高適

C.岑參

774.祥林嫂是魯迅哪篇文章裏的人物？(B)

A.《肥皂》

B.《祝福》

C.《阿Q正傳》

775.秦始皇是在哪一年統一中國的？(A)

A.西元前 221 年

B.西元前 230 年

C.西元前 222 年

776.秦統一中國後頒布了秦律，它集中體現了？(B)

A.奴隸主貴族的意志

B.地主階級的意志

C.秦始皇的個人意志

777.粵港澳大灣區（大灣區）包括幾個特別行政區和珠三角幾個市？(C)

A.2，7

B.2，8

C.2，9

778.粵港澳大灣區(大灣區)包括 2 個特別行政區和珠三角幾個市 ? (C)

A.7

B.8

C.9

779.粵港澳大灣區內的金融中心是 ? (A)

A.香港

B.澳門

C.廣州

780.粵港澳大灣區的城市之一澳門以其多樣化的美食而聞名。以下哪種著名的澳門小吃在當地特別受歡迎 ? (A)

A.豬扒包

B.鳳梨

C.羊肉串

781.粵港澳大灣區的發展吸引了來自世界各地的專業人才。以下哪個城市被稱為「科技之城」 ? (B)

A.香港

B.深圳

C.廣州

782.粵港澳大灣區跨足了中國內地和哪兩個特別行政區 ? (B)

A.澳門和廣西

B.香港和澳門

C.上海和廣州

783.紅軍長征中，紅一、二、四方面軍最終在甘肅會寧勝利會師，標誌着長征的勝利結束。請問這次具有歷史意義的大會師發生在哪一年 ? (C)

A.1934 年

B.1935 年

C.1936 年

784.經濟特區作為對外開放的窗口，推動中國的發展。經濟特區「特」在實行？

(A)

A.特殊和優惠的經濟政策

B.「一國兩制」

C.民族區域自治制度

785.自鴉片戰爭以來，西方銀行資本逐步滲入中國政經體制內，其中以英資銀行地位最為重要。請問第一間在香港開業的銀行是什麼？(A)

A.東藩匯理銀行

B.渣打銀行

C.匯豐銀行

786.興起於 20 世紀 70 年代末到 80 年代初的一個新的詩歌藝術潮流，代表人物有舒婷、顧城、北島的詩派是哪個詩派？(A)

A.朦朧詩派

B.九葉詩派

C.新月詩派

787.英國殖民地時期，港府成立立法局，協助港督制定法律和管理政府財政開支，請問哪一種人士對法律的制訂有決定性影響？(B)

A.立法局議員

B.港督

C.香港市民

788.華工出洋是香港航運業發展的重要因素之一，關於香港開埠初期華工的特點包括？(B)

A.從香港出海的華工權益受保護，提供基礎福利保障

B.華工的待遇極差，生活條件非常惡劣，從香港出海的華工，多來自廣東等地

C.華工多受壓榨，被迫接受無薪無酬的工作

789.著名作家老舍以及著名京劇表演藝術家程硯秋，請問他們都是同屬於哪一個少數民族的？(C)

A.蒙古族

B.朝鮮族

C.滿族

790.號「六一居士」的是誰？(C)

A.韓愈

B.王安石

C.歐陽修

791.被稱為「醫聖」的是哪位醫學家？(A)

A.張仲景

B.錢乙

C.李時珍

792.被譽為「中國戲曲之母」的劇種是？(C)

A.秦腔

B.京劇

C.昆曲

793.被譽為「中華水塔」的三江源地區，位於中國的哪裏？(A)

A.青藏高原

B.雲貴高原

C.內蒙古高原

794.被譽為「天下名茶之冠」的是？(C)

第十六屆全港學生中國國情知識大賽暨第五屆中國文化和旅遊知識競賽

A.安溪鐵觀音

B.黃山毛峰

C.西湖龍井

795.被譽為「魚米之鄉」的是哪個平原？(A)

A.長江中下游平原

B.東北平原

C.華北平原

796.西漢的文學成就中，最突出的是？(B)

A.散文、詩歌

B.賦、樂府詩

C.戲劇、傳記

797.解放戰爭時期，人民解放軍進行戰略決戰的三大戰役是？(C)

A.遼沈、平津、渡江戰役

B.遼沈、淮海、渡江戰役

C.遼沈、淮海、平津戰役

798.誰提出了「食不厭精，膾不厭細」這一飲食理論？(A)

A.孔子

B.莊子

C.墨子

799.請問中國歷史上開始過元宵節是在什麼時候？(A)

A.西漢

B.東漢

C.清朝

800.讀農家春聯，憶農村往事。在下列農家春聯中，反映土地改革運動的是？(A)

第十六屆全港學生中國國情知識大賽暨第五屆中國文化和旅遊知識競賽

A.土地還家山河改色，妖氛斂跡農民翻身

B.大包乾是搖錢樹，不出三年都變富

C.食堂巧煮千家飯，公社飽暖萬人心

801.越劇是中國哪個地區的地方戲曲？(C)

A.湖南

B.廣西

C.浙江

802.趙州橋是哪一個歷史時期建造的?(A)

A.隋期

B.宋朝

C.唐朝

803.辛亥革命後，大量人口湧入香港，最主要的原因是什麼？(C)

A.香港出入境方便

B.香港政治環境開明

C.躲避內地戰亂

804.遵義會議以後，中共中央決定組成三人軍事指揮小組，全權負責軍事指揮。這三人是？(A)

A.毛澤東、周恩來、王稼祥。

B.毛澤東、周恩來、張聞天。

C.毛澤東、鄧小平、王稼祥。

805.遼、宋、夏、金時期的政治特點是？(B)

A.地方軍閥割據

B.民族政權並立

C.戰亂長期不息

806.那達慕大會是哪個民族一年一度的傳統盛會?(C)

- A.回族
- B.傣族
- C.蒙古族

807.郭靖與楊康是金庸先生膾炙人口的小說《射雕英雄傳》中的主要人物。與他們中的「靖」和「康」有直接聯繫的歷史事件是?(B)

- A.金的建立
- B.金滅北宋
- C.南宋建立

808.鄧小平南方談話中止了有關下列哪一個的爭論?(A)

- A.市場經濟姓「社」還是姓「資」
- B.計劃經濟姓「社」還是姓「資」
- C.馬克思主義姓「社」還是姓「資」

809.開齋節是哪個少數民族的傳統節日?(C)

- A.苗族
- B.彝族
- C.維吾爾族

810.關於1840年代香港開埠初期的華人社會特點，以下選項正確的是?(1)

華人新移民多是來自湖南各地(2) 男性人口比例比較低(3) 華洋社會缺乏溝通(4) 建立「街坊」組織和「寺廟委員會」，用以維持社會治安和解決華人糾紛(C)

- A. (1) (3)
- B. (2) (3) (4)
- C. (3) (4)

811.青海湖古代被稱作什麼?(B)

A. 清湖

B. 西海

C. 鮮洲

812. 青藏高原平均海拔多少米？(C)

A. 3500 米

B. 4000 米

C. 4500 米

813. 風箏最早出現在哪個國家？(A)

A. 中國

B. 英國

C. 荷蘭

814. 養蠶技術、造紙技術、玻璃製造，當中哪一種技術是從國外傳入中國的？(C)

A. 養蠶技術

B. 造紙技術

C. 玻璃製造

815. 香港在英國殖民地時期，英國統治者掌握了香港的司法權，香港法律基本上照搬英國模式，請問當時香港的法律屬於哪一種法系？(B)

A. 中華法系

B. 普通法系（英美法系）

C. 歐陸法系

816. 香港開埠初期，進出口貿易十分繁榮，請問當時從中國向外出口的貨物有哪些？(B)

A. 鴉片

B. 絲綢、茶葉

C. 軍火

817.鴉片戰爭爆發在清朝哪位皇帝執政期間？(C)

- A.咸豐
- B.同治
- C.道光

818.鄭和七下西洋最遠到達哪一個地方？(C)

- A.阿拉伯半島
- B.印度
- C.紅海與非洲東海岸

819.鄭和第一次下西洋在位皇帝是哪一位？(B)

- A.明太祖朱元璋
- B.明成祖朱棣
- C.明仁宗朱高熾

820.緊緊圍繞協同香港推進國際科技創新中心任務，《河套深港科技創新合作區深圳園區發展規劃》共提出 30 條措施，重點明確了幾大發展定位、兩大發展目標、四大主要任務等內容？(B)

- A.兩
- B.三
- C.四

821.河套合作區是粵港澳大灣區唯一以下列哪一種為主題的特色平台，具有一河兩岸、一區兩園、跨境接壤、合作開發的獨特優勢？(C)

- A.經濟發展
- B.人才發展
- C.科技創新

822.構建高水平社會主義市場經濟體制的重要內容是？(A)

- A.「兩個毫不動搖」

B.「三個代表」重要思想

C.「兩個凡是」

823.根據《中國共產黨章程》的規定，黨的全國代表大會每幾年舉行一次？(B)

A.4

B.5

C.6

824.新征程上繼續推進全面深化改革，要堅持和加強下列哪一項把准改革方向，明確目標任務，以科學的謀劃、創新的魄力把各項工作做好做實？(B)

A.以人民為中心

B.黨的領導

C.人民的意願

825.下列哪一年的9月5日，中共中央、國務院正式印發《橫琴粵澳深度合作區建設總體方案》，為橫琴粵澳深度合作區建設勾勒出新藍圖，為澳門長遠發展注入了新動能、提供了新空間、創造了新機遇。(C)

A.2019

B.2020

C.2021

826.「人不可有傲氣，但不可無傲骨」是哪位書畫名家的座右銘？(A)

A.徐悲鴻

B.齊白石

C.鄭板橋

827.布達拉宮最初是為下列哪一位建造的？(A)

A.文成公主

B.王昭君

C.蔡文姬

828.我國古代被稱為藥王的著名醫學家是？(C)

- A.華佗
- B.張仲景
- C.孫思邈

829.中華人民共和國國務院總理是？(C)

- A.李克強
- B.王毅
- C.李強

830.二十屆中央全面深化改革委員會的主任是？(A)

- A.習近平
- B.李強
- C.王毅

831.人性善惡的討論由來已久，中國古代提出「人性本善」的是？(B)

- A.孔子
- B.孟子
- C.莊子

832.全國人民代表大會是國家的最高權力機關和最高什麼機關？(B)

- A.行政
- B.立法
- C.司法

833.全國兩會一般在每年幾月份召開？(A)

- A.3
- B.5
- C.7

834.全面建設社會主義現代化國家的首要任務是？(A)

- A.高質量發展
- B.高速率發展
- C.高效率發展

835.十一屆三中全會在正確分析國內外形勢的基礎上，決定停止使用下列哪一句的口號？(C)

- A.三年超英，五年趕美
- B.人有多大膽，地有多大產
- C.以階級鬥爭為綱

836.十一屆三中全會批判了下列哪一項的錯誤方針？(C)

- A.「兩個毫不動搖」
- B.「三個代表」重要思想
- C.「兩個凡是」

837.中共中央、國務院印發的《全面深化前海深港現代服務業合作區改革開放方案》頒發於哪一年的9月6日？(B)

- A.2020
- B.2021
- C.2022

838.中國人民政治協商會議每年舉行幾次會議？(A)

- A.1
- B.2
- C.3

839.中國歷史上真正的「大一統」國家始於下列哪一個朝代？(C)

- A.商朝
- B.周朝
- C.秦朝

C.秦朝

840. 中國共產黨全國代表大會和它所產生的中央委員會為中國共產黨最高的什麼機關？(B)

A.立法

B.領導

C.司法

841. 下列哪一個日期，在卡塔爾多哈舉行的世界貿易組織（WTO）第四屆部長級會議通過了中國加入世貿組織法律檔，它標誌着經過 15 年的艱苦努力，中國終於成為世貿組織新成員。標誌着中國的對外開放進入了一個新階段？(A)

A.10/11/2001

B.12/11/2001

C.11/12/2001

842. 《三十六計》是體現我國古代卓越軍事思想的一部兵書，下列不屬於《三十六計》的是？(C)

A.渾水摸魚

B.樹上開花

C.反戈一擊

843. 我國古代有很多計量單位，比如詩句「黃河遠上白雲間，一片孤城萬仞山」中的「仞」與「仞」大約相當於？(C)

A.一把長劍的長度

B.一個成年人的高度

C.成年人雙臂張開的長度

844. 第十一屆海峽論壇在哪個城市舉行？(B)

A.台北

B.廈門

C.福州

845.2008年8月8日至24日，北京成功舉辦第幾屆奧運會？(C)

A.二十七

B.二十八

C.二十九

846.港珠澳大橋正式通車運營時間為？(C)

A.24/8/2018

B.24/9/2018

C.24/10/2018

847.青藏鐵路是中國青海省下列哪一個市至西藏自治區拉薩市的鐵路，全長1956公里，是目前世界海拔最高的鐵路。(B)

A.蘭州市

B.西寧市

C.海東市

848.首屆中國國際進口博覽會在哪一個城市舉行？(B)

A.杭州市

B.上海市

C.天津市

849.1984年5月29日，某位領導人在會見巴西總統菲格雷多時指出：「中國的對外政策是獨立自主的，是真正的不結盟。這一講話，正式確立了不結盟的外交原則。該領導人是？(A)

A.鄧小平

B.周恩來

C.劉少奇

850.香港立法局出現首批由「直接選舉」產生的議員是在哪一年？(A)

A.1991

B.1992

C.1993

851.「廉政公署」早期稱為「總督特派廉政專員公署」，是獨立向港府首長負責的，以肅貪倡廉為目標的機構，請問它是在哪一年成立的?(C)

A.1970

B.1972

C.1974

852.戊戌維新運動是一次愛國救亡運動，也是一次資產階級性質的政治改良運動。維新派儘管不敢從根本上否定封建主義，但突破了洋務派「中體西用」思想的局限，主張?(A)

A.用君主立憲制取代君主專制制度

B.用君主立憲制取代君主專制制度

C.用總統共和制取代君主立憲制

853.「基本法起草委員會」是在哪一年成立的?(B)

A.1984

B.1985

C.1986

854.根據《基本法》規定，參選特首需年滿多少歲，並在香港通常居住連續滿幾年?(A)

A.40;20

B.50;20

C.50;30

855.南昌起義打響了武裝反抗國民黨的第一槍，這是中國共產黨什麼樣的開端?

(C)

- A. 實施土地革命和武裝起義方針的開始
- B. 建設無產階級領導的新型人民軍隊的開端
- C. 獨立領導革命戰爭、創建人民軍隊和武裝奪取政權的開端

856. 以下城市中屬於省會的是？(A)

- A. 福州
- B. 青島
- C. 深圳

857. 1990年，中共中央、國務院為進一步對外開放而作出的戰略舉措是？(B)

- A. 建立廈門經濟特區
- B. 開發、開放上海浦東新區
- C. 開發、開放海南經濟特區

858. 中國歷史上的「父子書法家」中生活年代最早的是？(B)

- A. 王羲之、王獻之
- B. 鍾繇、鍾會
- C. 米芾、米友仁

859. 中華人民共和國是下列哪個階級領導的、以工農聯盟為基礎的人民民主專政的社會主義國家？(B)

- A. 無產階級
- B. 工人階級
- C. 農民階級

860. 我國農業生產工具或生產方式演變順序是？(B)

- A. 石斧——銅鑿——水車——牛耕——曲轆犁
- B. 石斧——銅鑿——牛耕——水車——曲轆犁
- C. 石斧——牛耕——銅鑿——水車——曲轆犁

861. 下面是對我國一份近代歷史文獻的描述:是一份改革內政和建設國家的新方案;是發展資本主義的近代化綱領;因脫離當時社會現實而未能實施。這份文獻可能是?(B)

- A. 《海國圖志》
- B. 《資政新篇》
- C. 《三民主義》

862. 下列研究課題與其查閱的主要參考文獻對應錯誤的是?(B)

- A. 商周時代的藝術成就——《中國青銅時代》
- B. 南宋都城的城市建設——《從平城到洛陽》
- C. 明末中西文化交流史——《利瑪竇與中國》

863. 歌曲《春天的故事》歌頌了鄧小平同志的豐功偉績，歌詞「一九七九年，那是一個春天，有一位老人在中國的南海邊畫了一個圈」。這句歌詞指的是?(A)

- A. 在深圳、珠海搞特區試點
- B. 在海南搞自貿港試點
- C. 在福建搞自貿區試點

864. 有專家認為，「買東西」這個詞源於唐代。他的理由應該是?(C)

- A. 唐朝時期才有「東」和「西」兩個字
- B. 唐朝對外交流密切，常與東邊的日本和西邊的歐洲做貿易
- C. 唐朝的長安人購買物品只能到東市和西市這兩個地方去

865. 英國佔領香港之前，香港主要的產業是?(B)

- A. 採珠、製鹽、農業、畜牧業
- B. 採珠、製鹽、農業、漁業
- C. 採珠、紡織業、農業、漁業

866. 下面哪個字常用作表示順序的第五位?(A)

- A. 戊

B.戌

C.戌

867.用人制度是社會生活的重中之重。中國古代的用人制度幾經變化。其中隋唐之前的選官主要憑什麼？(C)

A.考試

B.才德

C.家世

868.香港最早有歷史記載的書院是？(A)

A.力瀛書院

B.觀廷書室

C.善述書室

869.下列哪一項標誌着第一次國共合作正式建立？(A)

A.國民黨第一次全國代表大會的召開

B.中國共產黨第三次全國代表大會

C.孫中山發表孫越宣言

870.現在有據可查的中國最古老的樂器是？(C)

A.埙

B.古琴

C.骨笛

871.紅軍二萬五千里長征的起點是？(B)

A.貴州遵義

B.江西瑞金

C.湖南新化

872.「大躍進」是從哪一年開始的？(C)

第十六屆全港學生中國國情知識大賽暨第五屆中國文化和旅遊知識競賽

A.1951

B.1956

C.1958

873.唐朝時期，在所有留學生中，新羅留學生的人數是最多的，新羅的各項制度也模仿唐朝。新羅位於哪裏？(C)

A.日本

B.印度

C.朝鮮半島

874.1947年5月，下列哪一個政府宣告成立，這是全國最早建立的省級民族自治區？(C)

A.新疆自治政府

B.寧夏自治政府

C.內蒙古自治政府

875.下列哪一所橋位於中國河北省，素有「百尺長虹橫水面，一彎新月出雲霄」的美稱？(C)

A.盧溝橋

B.洛陽橋

C.趙州橋

876.香港地區有文字可考的最早的移民活動始於哪一個朝代？(B)

A.西晉

B.東晉

C.南北朝

877.下列宮殿的名稱與典籍不直接相關的是？(A)

A.坤寧宮——《論語》

B.兩儀殿——《周易》

C.明德殿——《大學》

878.青藏高原上有一些著名畜種，其中被稱為「高原之舟」的是？(A)

A.犛牛

B.藏羚羊

C.駱駝

879.以下哪個城市既是中國主要的棉紡織工業基地又是重要的鋼鐵工業基地？(C)

A.武漢

B.哈爾濱

C.上海

880.隨着「滬港通」、與哪兩種和基金互認等先行先試政策不斷推出，內地與香港資本市場互聯互通管道逐步增多，機制不斷完善？(A)

A.深港通；債券通

B.深港通；港股通

C.港股通；債券通

881.為進一步推動大灣區內文化藝術的交流，下列哪一個城市將成為 2024 年「粵港澳大灣區文化藝術節」的主辦城市？(B)

A.深圳

B.香港

C.廣州

882.以下哪個城市，不屬於「粵港澳大灣區」城市？(B)

A.深圳

B.梅州

C.江門

883.途徑哈薩克斯坦的「雙西公路」是由中國西部到？(A)

第十六屆全港學生中國國情知識大賽暨第五屆中國文化和旅遊知識競賽

A.歐洲西部

B.非洲西部

C.亞洲西部

884.國家為發展新疆維吾爾自治區經濟，在當地建造西北地區最大陸路口岸，名為？(B)

A.天山口口岸

B.阿拉山口口岸

C.阿爾泰山口口岸

885.中國在下列哪年份年進一步確立了「有計劃的商品經濟體制模式」？(C)

A.1974

B.1987

C.1984

886.國家外匯管理局在各省、自治區、直轄市、副省級城市共設有多少個分局？(B)

A.35

B.36

C.37

887.經周恩來總理親自批示，1963年底，中央財政撥款3800萬元人民幣，建設哪一條水到深圳供水工程，着眼長遠解決香港的用水困難？(C)

A.長江——深圳供水

B.珠江——深圳供水

C.東江——深圳供水

888.南北行的意思指經營南北兩線貨品，南線以經營下列哪一個區域各地土產和食品為主；北線則以經營內地出口貨為主，整個行業總稱南北行？(A)

A.東南亞

B.南洋

C.南歐

889.1978年10月，中國擴大企業自主權試點在下列哪個省開始？(B)

A.廣東

B.四川

C.河北

890.全球首個年貨物輸送量突破9億噸的大港是中國的哪個港口？(A)

A.寧波舟山港

B.秦皇島港

C.日照港

891.毛澤東軍事思想形成時期的代表著作是？(B)

A.《星星之火，可以燎原》

B.《論持久戰》

C.《中國革命戰爭的戰略問題》

892.1979年7月15日，中共中央、國務院決定試辦出口特區。1980年5月16日，「出口特區」正式定名為「經濟特區」。同年8月26日，五屆全國人大常委會第十五次會議作出決定，批准在下列哪些城市設置經濟特區？(B)

A.深圳、珠海、廈門、海南

B.深圳、珠海、廈門、汕頭

C.廣州、深圳、寧波、福州

893.新中國開展的三反運動是指？(C)

A.反黑、反浪費、反官僚主義

B.反貪污、反腐敗、反官僚主義

C.反貪污、反浪費、反官僚主義

894.中國私營經濟在哪年得到了合法地位？(B)

第十六屆全港學生中國國情知識大賽暨第五屆中國文化和旅遊知識競賽

A.1985

B.1987

C.1989

895.1842年，時任英國在港全權代表的下列哪一位在香港發出告示，指「香港乃不抽稅之埠，準各國貿易」，確立香港自由港的地位？(C)

A.羅便臣

B.文咸

C.砵甸乍

896.古時候「桃李年華」是指女子多少歲？(B)

A.18

B.20

C.22

897.中國在哪年簽署了《中國—巴基斯坦優惠貿易安排》？(A)

A.2003

B.2004

C.2005

898.明末農民起義領袖李自成提出的什麼口號深得農民擁護？(B)

A.一條鞭法

B.均田免賦

C.方田均稅

899.中國飲用水保護範圍有幾級？(A)

A.二級

B.三級

C.四級

900. 中國在下列哪一個年份接受了世界銀行集團的第一筆貸款？(C)

A. 1991

B. 1988

C. 1981

901. 十九大提出實施鄉村振興戰略，2018年1月，中共中央、國務院印發了？

(A)

A. 關於實施鄉村振興戰略的意見

B. 農村人居環境整治三年行動方案

C. 中國共產黨農村工作條例

902. 顧炎武曾批評明朝的一種制度「敗壞人才」，超過秦始皇焚書坑儒，其矛頭指向了？(B)

A. 察舉制

B. 八股文

C. 九品中正制

903. 江蘇宜興的陶器舉世聞名，尤其是？(B)

A. 唐三彩

B. 紫砂茶壺

C. 青花瓷

904. 以蔣介石為首的國民黨南京政權建立後，官僚資本的壟斷活動首先和主要是從下列哪個行業方面開始的？(C)

A. 重工業

B. 商業

C. 金融業

905. 1934年4月，宋慶齡等 1779 人聯名簽署發表了什麼文件？(A)

A. 《中國人民對日作戰的基本綱領》

B.《為抗日救國告全國同胞書》

C.《停戰議和一致抗日通電》

906.1993年11月召開的中共十四屆三中全會，通過了什麼文件?(A)

A.《中共中央關於建立社會主義市場經濟體制若干問題的決定》

B.《中共中央關於加強黨同人民群眾聯繫的決定》

C.《中共中央關於國有企業改革和發展若干重大問題的決定》

907.美國社會學家帕森斯認為:在公元前的第一個千年之內，「哲學的突破」以截然不同的方式分別發生在希臘、以色列、印度和中國等地。產生於這一時代的思想觀點是?(C)

A.人民為主，工商皆本

B.心外無物，心外無理

C.致虛守靜，道法自然

908.以下中國古代人才選拔制度與朝代相對應的是?(B)

A.春秋戰國-九品中正制

B.漢朝-察舉制

C.魏晉-科舉制

909.袁世凱稱帝，是誰組織「護國軍」討伐?(A)

A.蔡鍔

B.蔡邕

C.蔡元培

910.屈原是中國歷史上的一位偉大的愛國詩人，是中國下列哪一項文學的奠基人？

(C)

A.現實主義

B.自然主義

C.浪漫主義

911. 世界最早的一部法醫學專著《洗冤集錄》出現在哪個朝代?(C)

- A. 隋朝
- B. 唐朝
- C. 宋朝

912. 《香港國安法》是繼下列哪兩個法後，中央最高權力機關按《憲法》特別為香港制定的第三部法律?(A)

- A. 《基本法》和《駐軍法》
- B. 《基本法》和《選舉法》
- C. 《選舉法》和《駐軍法》

913. 清末著名詩人丘逢甲在《春愁》中寫道:「春愁難遣強看山，往事驚心淚欲潸。四百萬人同一哭，去年今日割台灣。」詩中的「往事」指的是哪次戰爭的失敗?(A)

- A. 中日甲午戰爭
- B. 鴉片戰爭
- C. 八國聯軍侵華戰爭

914. 下列哪一個國家是中國「一帶一路」倡議在非洲唯一的支點，是新絲路建設中獲得中國資金援助最多的國家?(B)

- A. 南非
- B. 肯尼亞
- C. 毛里求斯

915. 「一帶一路」全稱是?(C)

- A. 海上絲綢之路經濟帶和 21 世紀絲綢之路
- B. 海上絲綢之路經濟帶和 21 世紀絲綢之路經濟帶
- C. 絲綢之路經濟帶和 21 世紀海上絲綢之路

916. 「一帶一路」是中華人民共和國政府於哪一年倡議並主導的跨國經濟帶?(B)

A.2012

B.2013

C.2014

917. 「中國夢」的核心內涵是？(A)

A. 中華民族偉大復興

B. 中國夢，我的夢

C. 實現共同富裕

918. 下列哪一個不屬於絲路精神的內涵？(C)

A. 和平合作

B. 開放包容

C. 自力更生

919. 中國共產黨最早成立的抗日根據地是

A. 晉冀魯豫抗日根據地

B. 晉綏冀抗日根據地

C. 晉察冀抗日根據地

920. 中國共產黨制定《抗日救國十大綱領》的會議是？(B)

A. 遵義會議

B. 洛川會議

C. 瓦口會議

921. 中國共產黨的根本宗旨是？(B)

A. 維護世界和平

B. 全心全意為人民服務

C. 實現中華民族偉大復興

922. 中國共產黨第二十次全國代表大會於哪一年 10 月 16 日至 22 日在北京召

第十六屆全港學生中國國情知識大賽暨第五屆中國文化和旅遊知識競賽

開？(B)

A.2021

B.2022

C.2023

923. 中國共產黨這一稱謂的最早提出者是？(C)

A.陳獨秀

B.李大釗

C.蔡和森

924. 中國共產黨開創的第一個農村革命根據地是？(B)

A. 中央革命根據地

B.井岡山革命根據地

C.陝甘寧革命根據地

925. 中國共產黨領導的革命，包括哪兩個階段？(C)

A.新民主主義革命和資產階級革命

B.社會主義革命和資產階級革命

C.新民主主義革命和社會主義革命

926. 中國改革開放的第一批試點城市之一是？(B)

A.北京

B.汕頭

C.青島

927. 中國改革開放開始的標誌是？(A)

A.1978 年十一屆三中全會的召開

B.1990 年十四屆三中全會的召開

C.1980 年十二屆三中全會的召開

928. 中國發展「一帶一路」將加大資金支持，向絲路基金新增資金 1000 億元人民幣，鼓勵金融機構開展人民幣海外基金業務，規模預計為？(C)

- A. 1000 億元人民幣
- B. 2000 億元人民幣
- C. 3000 億元人民幣

929. 中央直接就國安立法對「一國兩制」制度有怎樣的影響？(A)

- A. 加固了「一國兩制」
- B. 破除了「一國兩制」
- C. 代替了「一國兩制」

930. 中華人民共和國自 1949 年成立，便廣交朋友，下列哪一個是第一個承認中華人民共和國的國家？(A)

- A. 蘇聯
- B. 朝鮮
- C. 巴基斯坦

931. 共建「一帶一路」倡議源於中國，但機會和成果屬於世界。以我國發展為契機，讓更多國家搭上我國發展快車，釋放各國發展潛力，有助於形成「1+1>2」的效應，破解發展何種問題，更好實現經濟大融合、發展大聯動、成果大共享？(C)

- A. 滯後
- B. 過快
- C. 不平衡不充分

932. 哪個國家在一帶一路倡議中扮演了"天使投資者"的角色？(C)

- A. 日本
- B. 美國
- C. 中國

933.哪個國家是一帶一路倡議的主要受益者之一？(B)

- A.巴西
- B.肯尼亞
- C.日本

934.哪個國家被視為一帶一路的起點？(C)

- A.北京
- B.上海
- C.西安

935.實現新時代新征程的目標任務，要把下列哪一項作為推進中國式現代化的根本動力，作為穩大局、應變局、開新局的重要抓手，把准方向、守正創新、真抓實幹，在新征程上譜寫改革開放新篇章？(A)

- A.全面深化改革
- B.全面對外開放
- C.全面推進鄉村振興

936.就粵港澳大灣區發展，國家發展戰略的使命是什麼？(1)新時代推動形成全面開放新格局的新嘗試。(2)推動「一國兩制」事業發展的新實踐。(3)緊密合作共同參與「一帶一路」建設。(A)

- A.(1)和(2)
- B.(1)和(3)
- C.(2)和(3)

937.撥亂反正秉承實事求是思想路線，改革開放開創社會主義特色道路。下列描述與此直接相關的是？(C)

- A.三大改革奠基礎
- B.一五計劃
- C.經濟特區顯活力

938.為實現「兩個一百年」的奮鬥目標，實現中華民族偉大復興的中國夢，不斷提高人民生活水準，中國共產黨把執政興國的第一要務確定為？(A)

- A.發展
- B.建設
- C.外交

939.黨的二十大報告把下列哪一項作為「加快構建新發展格局，着力推動高質量發展」的重要內容？(A)

- A.推進高水平對外開放
- B.推進深層次對外開放
- C.推進多領域對外開放

940.黨的二十大報告指出，下列哪一項是世界各國人民前途所在？(A)

- A.構建人類命運共同體
- B.實現共同富裕
- C.實現中華民族偉大復興

941.被稱為改革開放「排頭兵、先行地、實驗區」的省份是？(A)

- A.廣東省
- B.福建省
- C.海南省

942.下列哪一項是當代中國發展進步的必由之路，是實現中國夢的必由之路？

- (C) A.全面小康
- B.共同富裕
- C.改革開放

943.下列哪一個國家的總統塔隆近日對中國進行國事訪問，兩國元首宣布建立戰略伙伴關係，共同見證簽署了深化共建「一帶一路」、綠色發展、數字經濟等領

第十六屆全港學生中國國情知識大賽暨第五屆中國文化和旅遊知識競賽

域多項雙邊合作文件？(A)

- A. 貝寧
- B. 尼日利亞
- C. 埃塞俄比亞

944. 2023年12月6日至8日，2023粵港澳大灣區服務貿易大會將在哪裏同時舉辦？(C)

- A. 粵港兩地
- B. 港澳兩地
- C. 粵港澳三地

945. 今年是中國改革開放45週年，中國將堅持推進下列哪一項，以高質量發展全面推進中國式現代化，為各國開放合作提供新機遇？(A)

- A. 高水平對外開放
- B. 高速率對外開放
- C. 多領域對外開放

946. 中國歷史上第一個王朝是？(A)

- A. 夏朝
- B. 商朝
- C. 周朝

947. 下列哪個事件標誌着中國封建社會的開始？(B)

- A. 秦始皇統一六國
- B. 周武王伐紂
- C. 漢武帝開拓西域

948. 秦始皇統一六國後，推行了哪種文字作為全國統一文字？(C)

- A. 甲骨文
- B. 金文

C.小篆

949.下列哪個事件導致了北宋的滅亡？(C)

A.安史之亂

B.黃巢之亂

C.靖康之恥

950.下列哪個條約標誌着鴉片戰爭的結束？(A)

A.《南京條約》

B.《北京條約》

C.《馬關條約》

951.下圖是太平天國的領導者的畫像，他是誰？(A)



A.洪秀全

B.李自成

C.孫中山

952.辛亥革命爆發於哪一年？(B)

A.1898 年

B.1911 年

C.1919 年

953.請問圖中的中華民國的臨時大總統是誰？(B)



- A. 袁世凱
- B. 孫中山
- C. 蔣介石

954. 五四運動爆發於哪一年？(B)

- A. 1911 年
- B. 1919 年
- C. 1927 年

955. 下圖哪位是中國改革開放的總設計師？(A)



- A. 鄧小平
- B. 毛澤東
- C. 周恩來

956. 下列哪個朝代被稱為「中國的黃金時代」？(B)

A. 漢朝

B. 唐朝

C. 宋朝

957. 下列哪個事件標誌着中國近代史的開端？(A)

A. 鴉片戰爭

B. 太平天國運動

C. 辛亥革命

958. 下圖哪位是南宋著名的抗金將領？(A)



A. 岳飛

B. 文天祥

C. 戚繼光

959. 下圖是中國最大的沙漠的衛星影像，這是哪一個沙漠？(A)



A. 塔克拉瑪干沙漠

B. 戈壁沙漠

C.騰格里沙漠

960.下圖所示的省份素有「魚米之鄉」之稱，該稱號通常泛指長江中下游平原一帶。請問圖中所示的是哪一個省份？(A)

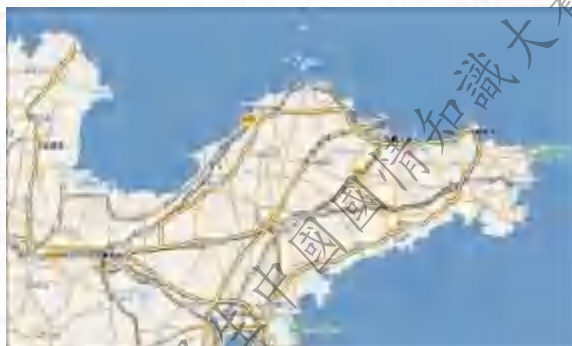


A.江蘇省

B.浙江省

C.福建省

961.下圖是中國最大的半島的地圖，這是哪一個半島？(C)



A.遼東半島

B.雷州半島

C.山東半島

962.下圖是中國最大的瀑布的壯觀景象，這是哪一個瀑布？(A)



- A. 黃果樹瀑布
- B. 壺口瀑布
- C. 德天瀑布

963. 下圖是中國最大的淡水濕地的生態景觀，這是哪一個濕地？(C)



- A. 鄱陽湖濕地
- B. 洞庭湖濕地
- C. 三江平原濕地

964. 我國國家治理體系和治理能力現代化的總體目標之一是，到\_\_\_\_年，各方面製度更加完善，基本實現國家治理體系和治理能力現代化。(C)

- A. 2025
- B. 2030
- C. 2035

965. 村民自治的基礎，也是村民參與民主管理的主要途徑是什麼？(B)

- A. 村民會議
- B. 村民自己選舉當家人

C.村務公開

966.我國外交政策的基本立場是什麼？(A)

A.獨立自主

B.維護世界和平，促進共同發展

C.和平共處五項原則

967.中國特色社會主義製度的最大優勢是什麼？(C)

A.人民當家作主

B.民主集中製

C.中國共產黨領導

968.我國的國體是什麼？(B)

A.人民代表大會制度

B.人民民主專政

969.下圖是中國古代科舉考試場景復原圖，圖中反映的科舉制度始於哪個朝代？(A)



A.隋朝

B.宋朝

C.唐朝

970.下圖是第一次鴉片戰爭形勢圖，這場戰爭爆發於哪一年？(B)



- A. 1839 年
- B. 1840 年
- C. 1856 年

971. 下圖是元朝的建立者畫像，他是誰？(B)



- A. 成吉思汗
- B. 忽必烈
- C. 窩闊臺

972. 下圖是漢武帝時期出使西域的使者畫像，他開闢了通往西域的「絲綢之路」，這位使者是？(B)、



- A. 班超
- B. 張騫
- C. 玄奘

973. 下圖是中國歷史上第一個朝代的遺址示意圖，這個朝代是？(A)



- A. 夏朝
- B. 商朝
- C. 周朝

974. 下圖是中國最大的淡水湖，它是哪一個？(B)



A.洞庭湖

B.鄱陽湖

C.太湖

975.下圖是中國的「煤都」城市風貌，這個城市指的是？(A)



A.山西省大同市

B.遼寧省撫順市

C.河北省唐山市

976.下圖是中國「西氣東輸」工程路線圖，該工程是將哪裏的天然氣輸送到東部地區？(A)



A.新疆塔里木盆地

B.陝西榆林地區

C.四川盆地

977.中國的「四大漁場」中，位於東海的是哪一個？(B)

A.黃渤海漁場

B. 舟山漁場

C. 南海漁場

978. 下圖是中國的「三峽大壩」，它位於哪條河流上？(B)



A. 黃河

B. 長江

C. 珠江

979. 下圖是中國最早成立的經濟特區，它是哪一個？(A)

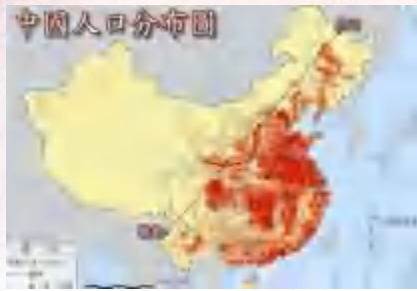


A. 深圳經濟特區

B. 珠海經濟特區

C. 廈門經濟特區

980. 下圖是中國人口分布示意圖，圖中人口最多的省份是哪一個？(B)



A. 河南省

B. 廣東省

C. 山東省

981. 中國的「雙一流」大學建設計劃是指什麼？(B)

A. 建設世界一流大學和一流實驗室

B. 建設世界一流大學和一流學科

C. 建設國內一流大學和一流專業

982. 中國的「嫦娥工程」主要目標是什麼？(A)

A. 探測月球

B. 探測火星

C. 載人航天

983. 中國的「碳中和」目標是在哪一年提出的？(B)

A. 2019 年

B. 2020 年

C. 2021 年

984. 中國抗日戰爭期間，哪一份報紙呼籲「航空救國」？(B)

A. 申報

B. 大公報

C. 新華日報

985. 下圖為學者王振鐸根據古籍記載考證並製作的勺形磁性指向器復原模型，它

被稱為什麼？(B)



- A. 指南車
- B. 司南
- C. 羅盤

986. 下圖是中國古代一位思想家，他提出「人性本善」的觀點，這位思想家是？(B)



- A. 孔子
- B. 孟子
- C. 荀子

987. 下圖是京劇《貴妃醉酒》演員的劇照，這部劇是根據哪部古代戲曲改編而成的？(B)



- A. 《牡丹亭》
- B. 《長生殿》
- C. 《桃花扇》

988. 下圖是金庸當年在香港工作過的報社舊址，他的第一部武俠小說《書劍恩仇錄》就是在該報副刊連載。這家報社當時隸屬於哪個報紙？(B)



- A. 《文匯報》
- B. 《大公報》
- C. 《星島日報》

989. 下圖為 19 世紀香港的學校舊照。請問，1841 年香港成為英國殖民地初期，英國鼓勵私人和哪類機構辦學？(B)



- A. 商會
- B. 教會
- C. 同鄉會

990. 下圖為 1928 年濟南慘案中遭破壞的街景。請問這場慘案的製造者是哪一國？(B)



- A. 英國
- B. 日本
- C. 美國

991. 下圖為 1928 年底宣布「東北易幟」的東北軍閥將領。請問他是誰？(B)



- A. 張作霖
- B. 張學良
- C. 馮玉祥

992. 下圖為香港出土的文物。請問香港自哪個朝代起已是中國領土？(A)



- A. 秦朝
- B. 漢朝
- C. 唐朝

993. 南京國民政府被稱為「國民黨政府」是因為什麼？(B)

- A. 它的領導人是蔣介石
- B. 它由國民黨一黨專政
- C. 它代表國民黨的利益

994. 西漢元狩四年（公元前 119 年）漢軍北擊匈奴、在狼居胥山舉行祭天典禮的

場景。這一壯舉被後世譽為古代武將的最高榮譽之一。請問圖中這位「封狼居胥」的將軍是誰？(B)



- A. 衛青
- B. 霍去病
- C. 李廣

995. 下圖為河西走廊地圖，標示西漢設置的四郡。請問這四郡是？(A)



- A. 酒泉、武威、張掖、敦煌
- B. 隴西、北地、上郡、西河
- C. 天水、安定、金城、武威

996. 中國歷史上繼商朝之後，最後一個完全實行封建製度的世襲王朝是？(B)

- A. 秦朝
- B. 周朝
- C. 漢朝

997.1919年5月4日，有三千多學生在北京的大街上整隊遊行，燒毀了交通總長曹汝霖的官邸，促成了全國罷工罷市的風潮。這場運動的目標是？(B)

- A.反對二十一條
- B.外爭國權、內懲國賊
- C.打倒軍閥

998.下圖為1954年第一屆全國人民代表大會的會場。請問這次會議制定了哪部法律？(B)



- A.《共同綱領》
- B.《中華人民共和國憲法》
- C.《土地改革法》

999.1993年11月召開的中共十四屆三中全會，通過了哪部《決定》？(B)

- A.《關於經濟體制改革的決定》
- B.《關於建立社會主義市場經濟體制若干問題的決定》
- C.《關於國有企業改革和發展若干重大問題的決定》

1000.下圖為五四運動期間的漫畫，描繪了巴黎和會上中國山東權益被列強轉讓的情景。請問當時引發舉國憤慨、成為五四運動直接導火索的爭議城市是？(B)



A.天津

B.青島

C.大連

1001.《中華人民共和國香港特別行政區維護國家安全法》正式出台的時間是(B)

A.2020年7月1日

B.2020年6月30日

C.2020年6月21日

1002.西元前214年，秦始皇派兵平定百越，在其地設置四郡。香港地區屬南海郡哪里裏轄(A)

A.番禺縣

B.寶安縣

C.新安縣

1003.鴉片戰爭爆發的時間是(A)

A.1840年6月

B.1841年1月

C.1842年8月

1004.中國共產黨第一次全國代表大會召開的時間是(C)

A.1921年7月1日

B.1921年8月1日

C.1921年7月23日

1005.中國共產黨主要創始人是陳獨秀和(A)

A. 李大釗

B. 孫中山

C. 毛澤東

1006. 1927年10月，毛澤東率領秋收起義部隊在哪里開創第一個農村革命根據地(B)

A. 南昌

B. 井岡山

C. 瑞金

1007. 哪次戰役是1937年抗戰開始的第1個勝仗，沉重打擊了侵華日軍的囂張氣焰，打破了其所謂「不可戰勝」的神話(A)

A. 平型關大捷

B. 淞滬會戰

C. 台兒莊戰役

1008. 1941年12月，日本佔領香港，港英政府抵抗了多少天就向日本投降(C)

A. 67天

B. 139天

C. 18天

1009. 標誌著中國共產黨獨立領導革命戰爭、創建人民軍隊的開端的歷史事件是(B)

A. 秋收起義

B. 南昌起義

C. 廣州起義

1010. 1997年7月1日，中國在恢復對香港行使主權的同時，駐香港部隊與原駐守英軍舉行了什麼儀式(B)

A. 閱兵

B. 防務交接

C. 升旗

1011. 1949年10月1日，毛澤東主席在天安門城樓向全世界莊嚴宣告(B)

- A. 中國人民從此站起來了
- B. 中華人民共和國中央人民政府今天成立了
- C. 解放戰爭勝利了

1012.黨的歷史上生死攸關的轉捩點，確立了毛澤東同志在黨和紅軍領導地位的會議是（B）

- A. 八七會議
- B. 遵義會議
- C. 古田會議

1013.中國共產黨人的初心和使命是：為中國人民謀幸福，為（A）謀復興。

- A. 中華民族
- B. 共產主義
- C. 新中國

1014.中國人民解放軍的建軍原則是：堅持（B）對軍隊的絕對領導。

- A. 政府
- B. 黨
- C. 人民

1015.抗美援朝戰爭中，擔任中國人民志願軍司令員兼政治委員的是（B）

- A. 朱德
- B. 彭德懷
- C. 林彪

1016.中國特色社會主義最本質的特徵是（C）

- A. 以經濟建設為中心
- B. 為人民服務
- C. 中國共產黨領導

1017.百團大戰集中發動了多少兵力（A）

- A. 105個團
- B. 100個團

C. 99個團

1018.下列哪一個事件推翻了清王朝統治，結束了延續兩千多年的君主專制制度（C）

A. 太平天國運動

B. 五四運動

C. 辛亥革命

1019.解放戰爭時期，人民解放軍的戰略決戰是指（A）

A. 三大戰役

B. 渡江戰役

C. 挺進大別山

1020.紅軍長征的起止時間是（B）

A. 1934年10月—1935年10月

B. 1934年10月—1936年10月

C. 1935年1月—1936年10月

1021.中國人民解放軍的宗旨是（A）

A. 緊緊地和人民站在一起，全心全意為人民服務

B. 政治建軍、改革強軍、科技強軍、人才強軍、依法治軍

C. 聽黨指揮、能打勝仗、作風優良

1022.哪次戰役的勝利是靠老百姓用小船劃出來的（A）

A. 渡江戰役

B. 孟良崮戰役

C. 蘇中戰役

1023.我國第一顆人造地球衛星叫(B)

A. 神舟一號

B. 東方紅一號

C. 嫦娥一號

1024.新時代強軍目標是建設一支(A)的人民軍隊。

- A.聽黨指揮、能打勝仗、作風優良
- B.現代化、正規化、革命化
- C.絕對忠誠、絕對純潔、絕對可靠

1025.中華人民共和國的根本政治制度是（C）

- A.多黨合作和政治協商制度
- B.民族區域自治制度
- C.人民代表大會制度

1026.哪一年我國正式確立了社會主義基本制度（A）

- A.1956年
- B.1949年
- C.1978年

1027.我國實行改革開放的標誌性會議是（A）

- A.十一屆三中全會
- B.中共八大
- C.十九大

1028.新文化運動的核心刊物是（C）

- A.《人民日報》
- B.《解放日報》
- C.《新青年》

1029.香港島是在哪一條約中被割讓給英國的（A）

- A.《南京條約》
- B.《馬關條約》
- C.《辛醜條約》

1030.英國租借香港新界地區的租期為多少年（C）

A. 90年

B. 100年

C. 99年

31. 哪次事件標誌著中國全民族抗戰的開始 (B)

A. 九一八事變

B. 七七事變

C. 西安事變

32. 「十五五」規劃實施時間是 (B)

A. 2025年—2029年

B. 2026年—2030年

C. 2027年—2031年

33. 中國人民解放軍駐香港部隊正式組建完成的時間是 (C)

A. 1993年1月8日

B. 1997年7月1日

C. 1996年1月28日

34. 下列哪個作品被譽為「天下第一行書」 (A)

A. 《蘭亭序》

B. 《自敘帖》

C. 《祭侄文稿》

35. 日本發動全面侵華戰爭的標誌是 (B)

A. 九一八事變

B. 盧溝橋事變

C. 南京大屠殺

36. 人民軍隊的誕生時間是 (B)

A. 1921年7月1日

B. 1927年8月1日

C.1919年5月4日

37.新中國第一部社會主義類型的憲法頒佈於（B）

A.1949年

B.1954年

C.1982年

38.香港什麼時候被納入中國領土（B）

A.西元前221年

B.西元前214年

C.西元前202年

39.古田會議確立的重要原則是（A）

A.思想建黨，政治建軍

B.農村包圍城市，武裝奪取政權

C.立黨為公，執政為民

40.哪次會議作出了中國特色社會主義進入新時代的科學判斷（B）

A.中國共產黨第十八次全國代表大會

B.中國共產黨第十九次全國代表大會

C.中國共產黨第二十次全國代表大會

41.下列哪一場景是為紀念東江縱隊港九大隊而建造（C）

A.



B.



C.



42. 歷史油畫《決策出兵》描繪的是哪一戰爭決策的艱難時刻 (C)



- A. 抗日戰爭
- B. 解放戰爭
- C. 抗美援朝戰爭

43. 圖片所示航母為 (A)



- A. 山東艦
- B. 遼寧艦
- C. 福建艦

44. 下列哪一飛機型號為殲20 (A)

A.




B.



C.



1045.《誰是最可愛的人》是作家魏巍於1951年4月11日在《人民日報》首發的報告文學作品，原自作者在朝鮮戰場前線採訪三個月後的深切感受，展現出中國人民志願軍英勇無畏，仁愛無私的崇高精神。該書主要記錄的是哪次戰役（B）

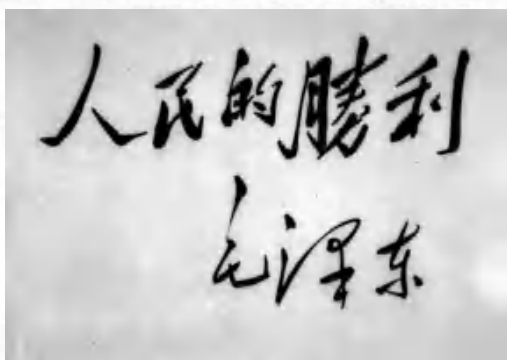


A.上甘嶺戰役

B.松骨峰戰役

C.長津湖戰役

1046.圖中「人民的勝利」出自哪一部著作（B）



- A. 《論持久戰》
- B. 《中國人民解放戰爭三年戰績》
- C. 《星星之火，可以燎原》

47. 該圖為愛國華僑謝纘泰繪製的時局圖，該圖以漫畫的手法，生動形象地反映了19世紀後半葉中國被帝國主義列強瓜分的嚴峻局勢。圖中的太陽代表哪個國家（C）



- A. 英國
- B. 法國
- C. 日本

1048. 該圖為雁宿崖，黃土嶺戰鬥示意圖，該戰鬥創造了敵後遊擊戰「誘敵深入，集中優勢兵力打殲滅敵」的經典範例。在該戰鬥中，我軍擊斃的日軍名將為（A）



A.阿部規秀中將

B.蓮沼蕃中將

C.多田駿大將

1049、視頻講述的是長征過程中哪一著名故事 試題\長征故事.mp4 (C)

A.半床棉被

B.豐碑

C.一袋乾糧

1050、視頻所示戰鬥發生在哪次戰役 試題塔山.mp4 (A)

A.遼沈戰役

B.淮海戰役

C.平津戰役

第十六屆全港學生中國國情知識大賽暨第五屆中國文化和旅遊知識競賽